


# Unidad N°3

(continuación)





Ejercicios 1,2 y 3 pág.26 del **libro del alumno.**



¿Qué hora es?

# El reloj



la aguja de la hora



el minuterero

# ¿Qué hora es? / ¿Qué hora tiene(s)?



# Preguntar y decir la hora



Perdone, ¿qué hora es?

Perdone, ¿tiene(s) hora?

No, lo siento.

Es la una...

Son las dos...

...en punto

...y cinco

...y cuarto

...y media

...menos veinte

...menos cuarto

...menos diez



Es la una (en punto).



Son las dos (en punto).



Es la una y cuarto.



Son las nueve y cuarto.



Es la una y diez.



Son las siete y veinticinco.



Es la una menos veinte.



Son las ocho menos diez.

- Al decir la hora, se usa a veces la expresión **en punto** para indicar que se trata exactamente de la hora indicada.

### **Ejemplos:**

**Es la una en punto.**

**Son las cinco y cuarto en punto.**

- Al contrario, se pueden usar algunas expresiones que nos indican que es una hora aproximada.

### **Ejemplos:**

**Es casi la una.** → quiere decir que todavía no es la una en punto pero faltarán uno o dos minutos.

**Son las ocho pasadas.** → quiere decir que ya son las ocho y habrán pasado ya uno o dos minutos.

- Los minutos de 1 a 29 deben ir introducidos por **y**.

**Ejemplos:**

**Son las tres y cinco.**

**Son las nueve y veinticinco.**

- Las palabras **cuarto** y **media** van necesariamente introducidos por **y**.

**Ejemplos:**

**Son las cinco y cuarto.**

**Son las diez y media.**

- Para los minutos que van de 31 a 59 se calcula cuántos minutos faltan para la hora siguiente y se expresa:

Verbo **SER + la/las + hora siguiente + menos + minutos que faltan**  
**Son las nueve menos diez.**  
**Es la una menos cuarto.**

- Se usan los términos **mediodía** y **medianoche** para sustituir las doce horas (del mediodía y de la noche, respectivamente).
- El término **mediodía** se usa muy a menudo para referirse a un periodo de tiempo que va aproximadamente desde las 12 del mediodía hasta la hora de comer.

# Los momentos del día

En español, el día se subdivide en tres grandes momentos:

La mañana

La tarde

La noche

- Para situar un acontecimiento en uno de estos momentos, se utiliza la preposición **por**:

**Ejemplo:**

- ¿Cuándo nos vemos?
- Mañana por la tarde, ¿te va bien?

- También se emplea **a/al** mediodía. Y **a** medianoche

# Tipos de Relojes





Reloj de salón




Reloj de pulsera




Reloj de bolsillo



Reloj de péndulo



Reloj cuco



Reloj electrónico





Despertador




Reloj de sol




# Mira estos relojes. ¿Qué hora es?



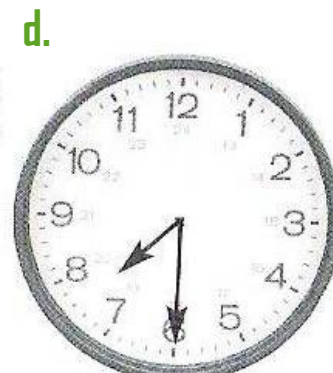
Son las tres  
y diez



Son las dos  
y cinco



Son las nueve  
menos cuarto



Son las siete  
y media



Son las ocho  
menos veinticinco



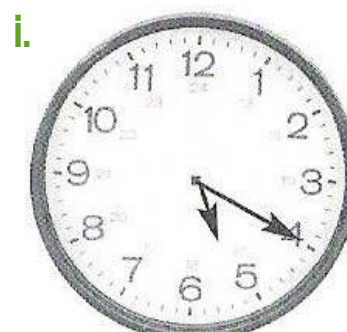
Son las diez  
menos diez



Son las tres  
y cuarto



Es la una en  
punto



Son las cinco  
y veinte



Son las tres  
y veinte

## Calcula e indica las horas.

a. Las tres y media más veinte minutos son...

las cuatro menos diez.

---

b. Las seis menos diez más quince minutos son...

las seis y cinco.

---

c. Las ocho y cuarto más treinta minutos son...

las nueve menos cuarto.

---

d. La una y cinco menos veinticinco minutos es...

la una menos veinte.

---

e. Las diez menos diez más un cuarto de hora son...

las diez y cinco.

---

Ejercicios 5, 6 y 3 pág.26,27 y 28 del **libro del alumno.**



Ejercicios 1,2 ,3 y 4 del **cuaderno de ejercicios.**

**Deberes**



# Tareas con Internet



<http://www.youtube.com/watch?v=tzC4GYVbwjk&feature=related>

-Explicación de la hora 1

<http://www.youtube.com/watch?v=UrcoB0FLmju&feature=related>

-Explicación de la hora 2


<http://www.youtube.com/watch?v=hiDclEAPNsY&feature=related>

-Explicación de la hora 3

[http://www.youtube.com/watch?v=aBwziQhg\\_w4&feature=related](http://www.youtube.com/watch?v=aBwziQhg_w4&feature=related)

-Explicación de la hora 4



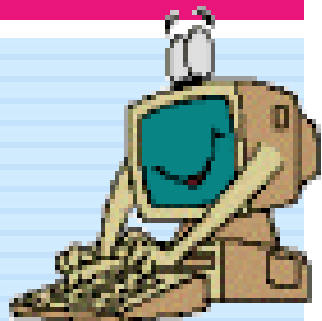


<http://www.youtube.com/watch?v=K7AKW8ye2Ds&feature=related>

- Canción sobre la hora 1

<http://www.youtube.com/watch?v=D-wxDCGoBfI>

- Canción sobre la hora 2



<http://www.chicomania.com/Ajugar/hora/hora.asp>

- Juego interactivo sobre la hora

Cláudia Nunes



2010 / 2011

