

PROVA DE AVALIAÇÃO DIAGNÓSTICA

Educação Visual e Tecnológica - 6º Ano

Tempo de duração da prova: 90 minutos


Material necessário: lápis nº2/HB, borracha, lápis de cor

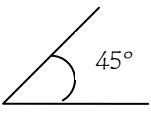
Nome N.º Ano/Turma


1. Assinala com V (verdadeiro) ou F (falso) as seguintes afirmações:


- a) Desenhar, pintar e colar são técnicas exploradas em E.V.T.
- b) A textura e a cor são elementos visuais da forma
- c) Misturando guache magenta com guache amarelo obtemos verde
- d) O guache é uma tinta que se dissolve em água
- e) Numa medição começa-se no "1" da régua
- f) Um ângulo agudo mede 90º


2. Faz corresponder os nomes às figuras, ligando-as com setas:


a)  Linha curva aberta

b)  Ângulo obtuso

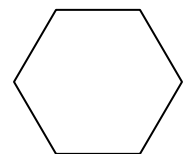
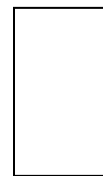
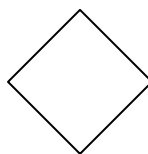

c)  Reta horizontal

d)  Retas paralelas

e)  Ângulo agudo

f)  Retas perpendiculares

3. Identifica as seguintes figuras geométricas:



a) b) c) d) e)

4. Escolhe a resposta correcta, assinalando-a com X:

- a) Papel, lápis e esquadro são materiais de E.V.T.
Papel, tintas e lápis são materiais de E.V.T.
Bancadas, esquadro e caderno são materiais de E.V.T.

<input type="checkbox"/>
<input type="checkbox"/>
<input type="checkbox"/>

- b) As cores primárias são magenta, azul-ciano e amarelo
As cores primárias são magenta, violeta e amarelo
As cores primárias são preto, branco e cinzento

<input type="checkbox"/>
<input type="checkbox"/>
<input type="checkbox"/>

- c) O diâmetro é uma linha curva da circunferência
O diâmetro é o segmento de recta que une 2 pontos da circunferência
O diâmetro é o segmento de recta que une 2 pontos da circunferência, passando pelo centro

<input type="checkbox"/>
<input type="checkbox"/>
<input type="checkbox"/>

- d) Medir, marcar e dobrar são técnicas para trabalhar em papel
Recortar, serrar e pregar são técnicas para trabalhar em papel
Limar, serrar e pregar são técnicas para trabalhar em papel

<input type="checkbox"/>
<input type="checkbox"/>
<input type="checkbox"/>

5. Neste espaço, faz uma composição com as iniciais da disciplina: **E, V, T**.

Sugestão: podes desenhar utensílios, materiais ou outros elementos. Pinta o teu trabalho com lápis de cor.



O que gostarias de fazer na disciplina de E.V.T. neste ano letivo?









.....

.....

.....

.....

MATRIZ DA PROVA DE AVALIAÇÃO DIAGNÓSTICA
Educação Visual e Tecnológica - 6º Ano

CONTEÚDOS	COMPETÊNCIAS	QUESTÕES/CRITÉRIOS	Cotação
<p> Trabalho Relação técnicas/materiais</p>	<ul style="list-style-type: none"> ➤ Identificar técnicas de transformação ➤ Distinguir materiais de técnicas 	<p>1. Assinala com V as questões a) b) d) 3%</p> <p>Assinala com F as questões c) e) f) 3%</p>	<p>6 Pontos</p>
<p> Forma Elementos da forma</p>	<ul style="list-style-type: none"> ➤ Conhecer os elementos que caracterizam uma forma 	<p>2. Faça correspondência a) ângulo obtuso 1%</p> <p>b) ângulo agudo 1%</p> <p>c) linha curva aberta 1%</p> <p>d) retas paralelas 1%</p> <p>e) retas perpendiculares 1%</p> <p>f) reta horizontal 1%</p>	<p>6 Pontos</p>
<p> Material Transformação de matérias-primas</p>	<ul style="list-style-type: none"> ➤ Utilizar os materiais de pintura 	<p>3. Identifica a) triângulo 1%</p> <p>b) circunferência 1%</p> <p>c) quadrado 1%</p> <p>d) retângulo 1%</p> <p>e) hexágono 1%</p>	<p>5 Pontos</p>
<p> Cor Natureza da cor</p>	<ul style="list-style-type: none"> ➤ Discriminar as cores primárias ➤ Realizar registos cromáticos 	<p>4. Assinala a) Papel, tintas e lápis são materiais de E.V.T. 2%</p> <p>b) As cores primárias são magenta, azul-ciano e amarelo 2%</p> <p>c) O diâmetro é o segmento de recta que une 2 pontos da circunferência, passando pelo centro 2%</p> <p>d) Medir, marcar e dobrar são técnicas para trabalhar em papel 2%</p>	<p>8 Pontos</p>
<p> Geometria Formas e relações geométricas/ Operações constantes</p>	<ul style="list-style-type: none"> ➤ Identificar formas geométricas 	<p>5. Composição - Desenho de letra 30%</p> <p>- Registo cromático/pintura 20%</p> <p>- Equilíbrio visual do espaço 10%</p> <p>- Expressividade na utilização dos elementos visuais 10%</p> <p>- Apresentação e rigor 5%</p>	<p>75 Pontos</p>
<p> Medida Métodos e instrumentos de medição</p>	<ul style="list-style-type: none"> ➤ Utilizar instrumentos de medição 		
<p> Espaço Organização do espaço</p>	<ul style="list-style-type: none"> ➤ Organizar, quanto a equilíbrio visual, um espaço bidimensional ➤ Conhecer a relatividade da posição no espaço 		
<p> Comunicação Problemática do sentido</p>	<ul style="list-style-type: none"> ➤ Utilizar expressivamente os diversos elementos visuais (relação de grandeza das figuras, cor linha de contorno...) 		
		TOTAL 100%	100 Pontos