

ANEXOS

ANEXO I

Ficha de Língua Portuguesa



Nome : _____

Data : ____/____/____

História

" O Nabo Gigante "

Onde se passa a história ? _____

Os dono da quinta são um _____ e uma _____

Na quinta havia animais: _____

O velho e a velha semearam : _____

Outros legumes da horta : _____, _____, _____

_____, _____, e _____

Para arrancar o nabo _____, o velhinho chamou _____

_____, _____, _____, _____, _____

_____, _____, _____, _____ e o _____



Nome : Agostinho

Data : 2009/6/17

História

"O Nabo Gigante"

Onde se passa a História? numa quinta

Os donos são um velhinha e uma velhinha.

Na quinta havia animais: uma arca de Noé, porcos, três gatos, quatro galinhas, duas pintadas, cinco galinhas, dois canários e um rato.

O Velho e a velha semearam: umam de tudo na terra.

Outros legumes da horta: ervilhas, semântico

batatas, feijão verde e nabos

Para arrancar o nabo gigante, o velhinho chamou: velhinha

velhinha, arca, os porcos, as galinhas,

as galinhas, os gatos, os canários e o rato.





Nome : Isaac

Data : 9/07/16 / 17

História

"O Nabo Gigante"

Onde se passa a História ? na quinta

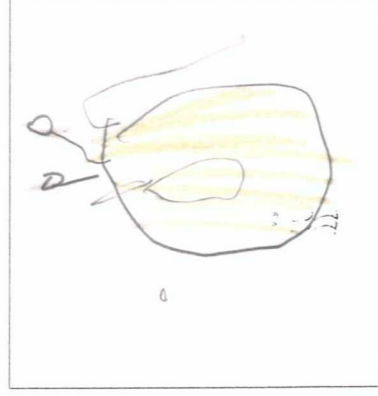




Os donos são um velho e uma velha.

Na quinta havia animais: uma vaca, dois porcos, cinco galinhas e um gato

O Velho e a velha semearam: sementes de nabo.

Outros legumes da horta: cenouras, feijão, brócolis, alface e couve

Para arrancar o nabo gigante, o velhinho chamou: a velhinha, os porcos, as galinhas e o rato





Nome: Bruna

Data: 2009/06/17

História

"O Nabo Gigante"

Onde se passa a História? Na quinta.

Os donos são um Velhote e uma Velhota.

Na quinta havia animais: Uma vaca, dois porcos

três gatos, cinco galinhas, quatro galinhas

seis cambórios, um rato e porcos.

O Velho e a velha semearam: Sementes.





Outros legumes da horta: Serventos, bratotas,

ervilhas, nabos e salface.

Para arrancar o nabo gigante, o velhinho chamou: a

mulher, a vaca, os porcos, os gatos,

os galinheiros, os cambórios, os serventos e o rato.





Nome : Bruna Maria

Data : 17/06/2009

História "O Nabo Gigante"

Onde se passa a História? Na quinta

Os donos são um velho e uma velha

Na quinta havia animais: vaca, porcos, galos, galinhas, gato e canário

O Velho e a velha semearam: sementes



Outros legumes da horta: nabo, cenoura

feijões, ervilhas e abobras

Para arrancar o nabo gigante, o velhinho chamou: velho-

nho, vaca, porcos, galos

galinhas, galinha, canários e o rato





Nome : Carolina

Data : 2009/06/17

História "O Nabo Gigante"

Onde se passa a História? Na quinta.


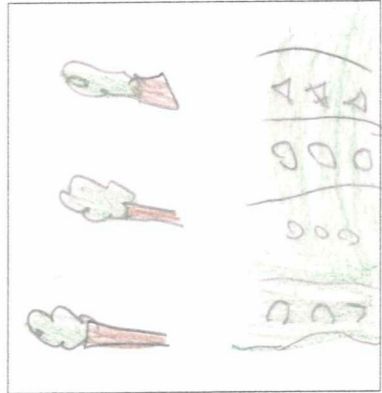
Os donos são um velhinho e uma velhinha.

Na quinta havia animais: Uma vaca, e dois porcos, três gatos, quatro galinhas, cinco cisnes, seis canários e um gato.

O Velho e a velha semearam: As sementes.

Outros legumes da horta: Sabatatas, feijões, cenouras, brinhabas e nabos.

Para arrancar o nabo gigante, o velhinho chamou: a velhinha, vacas, porcos, gatos, as galinhas, cisnes, canários e o gato.





Nome : Diana

Data : 20/06/17

História "O Nabo Gigante"

Onde se passa a História? Na quinta dos papais e da quinta




Os donos são um velhinho e uma velhinha

Na quinta havia animais: Uma vaca, dois porcos, gatos, quatro galinhas, dois gansos e dois coelhos

O Velho e a velha semearam: Dois nabos e batatas

Outros legumes da horta: Vegetais, feijão, batatas, ervilhas e endios

Para arrancar o nabo gigante, o velhinho chamou: o nabo, a vaca, os porcos, os gatos, os galinhos, os gansos, os coelhos, o gato e o rato





Nome : Barbara

Data : 2009/06/17

História "O Nabo Gigante"

Onde se passa a História? na quinta na quinta na quinta

Os donos são um velhinho e uma velhinha

Na quinta havia animais: na quinta havia uma vaca

dois porcos, três gatos, quatro galinhas,

cinco cães, seis canários e um rato

O Velho e a velha semearam: sementes



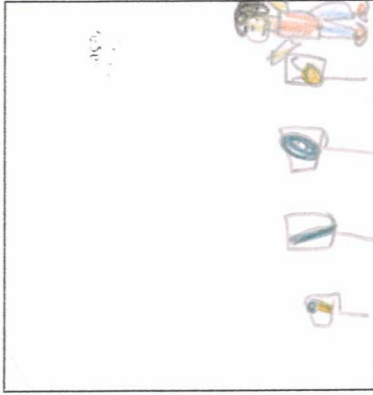

Outros legumes da horta: feijão, cenoura


ervilha, batatas e nabo

Para arrancar o nabo gigante, o velhinho chamou: a

velha, a vaca, o porco, o gato,

os galinhos, os cães, os canários e o rato





Nome : Francisco Bonacho

Data : 17/06/2009

História "O Nabo Gigante"

Onde se passa a História? numa quinta

Os donos são um velho e uma velha

Na quinta havia animais: securários, cinco sinos, quatro galinhas, dois gatos, dois porcos e uma vaca.

O Velho e a velha semearam: sementes




Outros legumes da horta: cenouras, batatas

ervilhas, grãos e nabo

Para arrancar o nabo gigante, o velhinho chamou:

velho, a vaca, os porcos, os gatos

as galinhas, os sinos, os securários e o nabo





Nome : Helena

Data : 20/06/17

História

"O Nabo Gigante"

Onde se passa a História? na quinta



Os donos são um Velho e uma Velha

Na quinta havia animais: oca, dois porcos, três gatos pretos, quatro galinhas, cinco gambos, seis canários.

O Velho e a velha semearam: na taboaria sementes das

Outros legumes da horta: alfafa, cenouras, fômaten, alface e nabo

Para arrancar o nabo gigante, o velhinho chamou: a velha, vava, porcos, gatos pretos, galinhas, gambos, canários e o nabo



Nome : Mariana

Data : 2009/6/17



História "O Nabo Gigante"





Onde se passa a História? de História passa de uma quinta.

Os donos são um velho e uma velha.

Na quinta havia animais: Uma vaca, dois porcos brancos, três gatos pretos, quatro galinhas d'água, cinco gansos, seis canários e o rato.
O Velho e a velha semearam: sementes na terra.

Outros legumes da horta: ervilhas, cenouras, batatas, feijão verde e abóbora.

Para arrancar o nabo gigante, o velhinho chamou: a velhinha, a vaca, os porcos, as galinhas, os gansos, os canários e o rato.



Nome : Yara de G

Data : 10/06/17



História "O Nabo Gigante"

Onde se passa a História? Na quinta

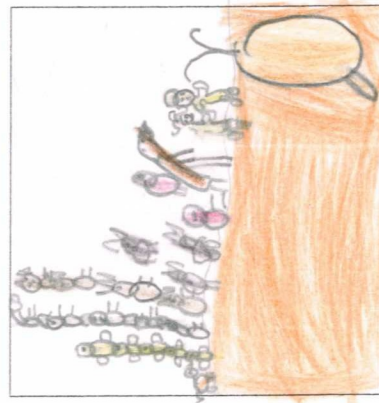
Os donos são um velhinho e uma velhinha

Na quinta havia animais: uma vaca, patos, galinhas, gansos, canários e um rato.

O Velho e a velha semearam: sementes malditas.

Outros legumes da horta: cenouras, feijão, batatas, nabos e ervilhas.

Para arrancar o nabo gigante, o velhinho chamou: a velhinha, vaca, patos, gansos, galinhas, gansos, canários e o rato.





Nome : Agne de Melo

Data : 20/09/2017

História "O Nabo Gigante"

Onde se passa a História? de história passa-se na quinta



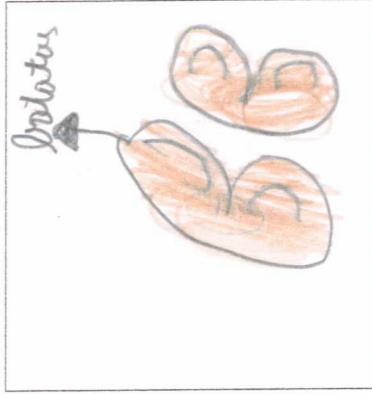
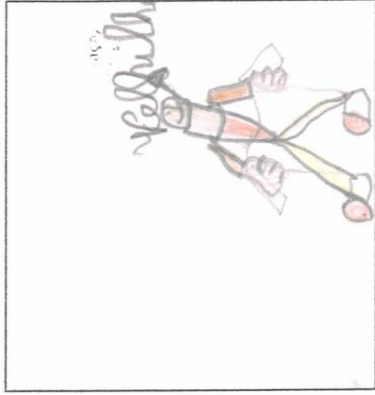

Os donos são um velhinho e uma velhinha.

Na quinta havia animais: havia uma vaca, dois porcos, três gatos, quatro galinhas, cinco coelhos e um rato.

O Velho e a velha semearam: feijões, batatas, alfaces e tomates.

Outros legumes da horta: feijões, batatas, alfaces e tomates.

Para arrancar o nabo gigante, o velhinho chamou: a velhinha, a vaca, os porcos, os gatos, os galos, os galos, os porcos, os porcos, o rato.





Nome : Luis

Data : 2009/06/17

História

"O Nabo Gigante"

Onde se passa a História? na quinta

Os donos são um velho e uma velha

Na quinta havia animais: uma vaca, dois porcos, três galinhas, galinhas e cinco gansos e seis patos.

O Velho e a velha semearam: sementes de nabos.

Outros legumes da horta: couve, alface, tomate, pepino e abóbora.

Para arrancar o nabo gigante, o velhinho chamou: a velhinha, a vaca, o porco, a galinha, o ganso, os canários, as galinhas e o rato.





Nome: Mamuel

Data: 2009/06/17

História

"O Nabo Gigante"

Onde se passa a História? Passa-se na quinta.

Os donos são um velho e uma velha.

Na quinta havia animais: uma vaca, dois porcos, três gatos

cinco cisnes, quatro galinhas, canários, rolos

O Velho e a velha semearam: sementes de nabos, feijão, milho

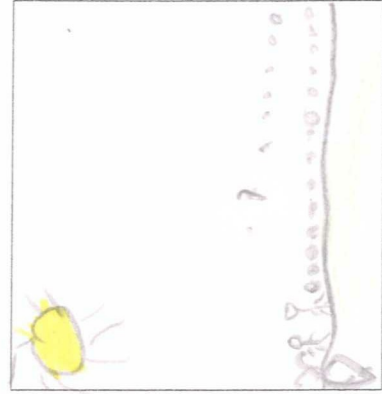



Outros legumes da horta: cenouras, feijão,

bratatas, rabanete e alface

Para arrancar o nabo gigante, o velhinho chamou: a

velha, a vaca, dois porcos, três gatos,

cinco cisnes, quatro galinhas, canários e o nabo





Nome : Yannuel Maria

Data : 20.08/2019

História "O Nabo Gigante"

Onde se passa a História? Na quinta.

Os donos são um velhinho e uma velhota.

Na quinta havia animais: uma vaca, dois porcos, dois galos, quatro galinhas, cinco caprinhos, seis coelhos e um gato.

O Velho e a velha semearam: Arrozalva.


Outros legumes da horta: cebolas, brócolis,

batatas, feijão e milho.

Para arrancar o nabo gigante, o velhinho chamou: a

velhota, vaca, porco, galos,

galinhas, galos, coelhos e o nabo.





Nome: Alana

Data: 20/06/17

História

"O Nabo Gigante"

Onde se passa a História? na quinta.


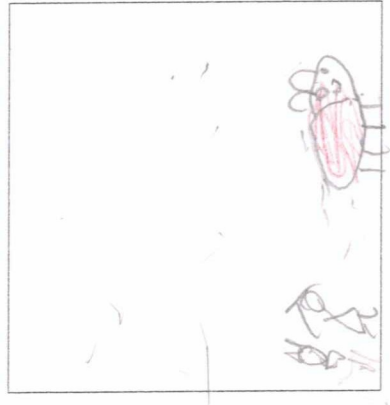
Os donos são um avô e uma avó.

Na quinta havia animais: 3 gatos pretos, galinhas, porcos, canários e o rato golinha.

O Velho e a velha semearam: sementes.

Outros legumes da horta: cenouras, batatas, feijão, nabica e alface.

Para arrancar o nabo gigante, o velhinho chamou: a avó, os porcos, gatos, galinhas, canários, galinhas e o rato.





Nome: Marta

Data: 20/06/17

História

"O Nabo Gigante"

Onde se passa a História? Fazenda do quintal







Os donos são um velhinha e uma velhinha


Na quinta havia animais: velha porco, galos, galinhas, coelhos, cisnes e pato

O Velho e a velha semearam: sementes

Outros legumes da horta: ervilha, batata, cenoura, feijão e nabo

Para arrancar o nabo gigante, o velhinho chamou: a velhinha, o coelho, o porco, galinha, cisnes, samarões, galos e o pato





Nome : Pedro

Data : 17/06/2009

História "O Nabo Gigante"

Onde se passa a História? na quinta



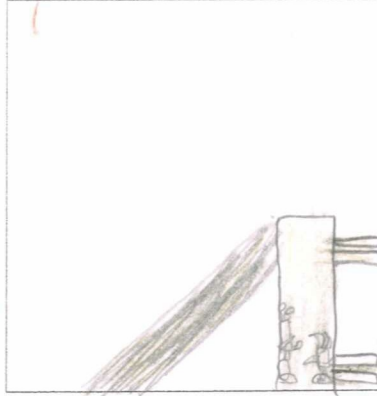


Os donos são um velhinho e uma velhinha

Na quinta havia animais: suco, porco, galinha, gatinho, vaca, gatos, canários.

O Velho e a velha semearam: semente.

Outros legumes da horta: cenoura, feijão
batatas, grãos e nabo

Para arrancar o nabo gigante, o velhinho chamou: velhinho
branco, porco, gatinho, ganso,
galinha, pato, canário e rato.





Nome : Isabella

Data : 17/01/2009

História "O Nabo Gigante"

Onde se passa a História? Na quinta.





Os donos são um velhinho e uma velhinha.

Na quinta havia animais: uma vaca, dois porcos, três galinhas, quatro galinhas, cinco galinhas, seis canários.

O Velho e a velha semearam: umas sementes.

Outros legumes da horta: cebolinha, feijão, nabica, batata e alface.

Para arrancar o nabo gigante, o velhinho chamou: a velhinha, a vaca, os porcos, as galinhas, os gatos, as galinhas, os porcos, canários e o rato.





Nome : Tiago

Data : 2009/06/17

História "O Nabo Gigante"

Onde se passa a História? dt história passa-se na quinta

Os donos são um Velho e uma Velha

Na quinta havia animais: a vaca, dois porcos, três gatos, quatro galinhas, cinco gansos, seis pássaros.


O Velho e a velha semearam: Sementes e nabos.

Outros legumes da horta: cenouras, tomates

alfaces, couves, batatas e nabos

Para arrancar o nabo gigante, o velhinho chamou: a

Velha, a vaca, os porcos, as galinhas, os gatos, os gansos, os canários e o rato.



ANEXO II



Ficha de Matemática



Ficha de trabalho de Matemática

Nome : _____

Data : ___/___/___






<i>Imagem</i>	<i>Exploração</i>
 <p>“ O velhinho e a velhinha viviam juntos numa casinha ...”</p>	<p>1 - Quantas janelas tem a casinha?</p> <p>2 - Quantos vidros tem a casinha?</p> <p>3 - Cinco casinhas iguais à dos velinhos quantas janelas têm?</p>
  <p>“O velhinho e a velhinha tinham...”</p>	<p>1 - ... quantos canários e galinhas?</p> <p>2 - ... quantas vacas, gatos e porcos?</p>
 <p>“O velhinho, a velhinha, a vaca castanha, os dois porcos barrigudos ...”</p>	<p>1 - Quem é o primeiro a puxar o nabo?</p> <p>2 - Quem é o terceiro a puxar pelo nabo?</p> <p>3 - Quem está entre o velhinho e a vaca?</p> <p>4 - O que representa $1+ 2+3+4+5+6 =$</p>
 <p>“A velhinha foi até à cozinha e vestiu o avental...”</p>	<p>1 - Observa o avental da velhinha. Quantos frutos vês desenhados?</p> <p>2 - A velhinha tem cinco aventais como este. Quantos frutos desenhados há nos cinco aventais?</p> <p>3 - Desenha um avental mas decorado a teu gosto.</p>



Ficha de trabalho de Matemática

Nome : ct gonso

Data : 19/6/2009



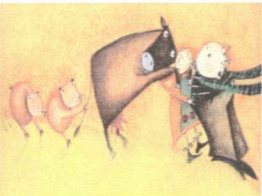


Imagem	Exploração
 <p>“ O velhinho e a velhinha viviam juntos numa casinha ...”</p>	<p>1 - Quantas janelas tem a casinha? A casinha tem 3 janelas.</p> <p>2 - Quantos vidros tem a casinha? A casinha tem 12 vidros.</p> <p>3 - Cinco casinhas iguais à dos velhinhos quantas janelas têm? Cinco casinhas tem 15 janelas. $3+3+3+3+3=15$</p>
 <p>“O velhinho e a velhinha tinham...”</p>	<p>1 - ... quantos canários e galinhas? canários tem 6 e galinhas tem 4 ao todo dá 10 animais.</p> <p>2 - ... quantas vacas, gatos e porcos? 1 vaca 3 gatos e 2 porcos; ao todo 6 animais</p>
 <p>“O velhinho, a velhinha, a vaca castanha, os dois porcos barrigudos ...”</p>	<p>1 - Quem é o primeiro a puxar o nabo? o primeiro é o velhinho.</p> <p>2 - Quem é o terceiro a puxar pelo nabo? o terceiro é a vaca.</p> <p>3 - Quem está entre o velhinho e a vaca? É a velhinha.</p> <p>4 - O que representa $1+2+3+4+5+6 =$ Significa os números dos animais da quinta.</p>
 <p>“A velhinha foi até à cozinha e vestiu o avental...”</p>	<p>1 - Observa o avental da velhinha. Quantos frutos vês desenhados? Vejo 3 frutos</p> <p>2 - A velhinha tem cinco aventais como este. Quantos frutos desenhados há nos cinco aventais? 5 aventais iguais a este tem 15 maçãs.</p> <p>3 - Desenha um avental mas decorado a teu gosto</p> 



Ficha de trabalho de Matemática

Nome : Alma

Data : 19/06/2009






Imagem	Exploração
 <p>“ O velhinho e a velhinha viviam juntos numa casinha ... ”</p>	<p>1 - Quantas janelas tem a casinha? <i>tem três janelas.</i></p> <p>2 - Quantos vidros tem a casinha? <i>a casinha tem doze vidros</i> $4+4+4=12$</p> <p>3 - Cinco casinhas iguais à dos velhinhos quantas janelas têm? <i>tem quinze janelas.</i> $3+3+3+3+3=15$</p>
 <p>“O velhinho e a velhinha tinham...”</p>	<p>1 - ... quantos canários e galinhas? <i>tinham três canários e quatro galinhas.</i> $3+4=7$</p> <p>2 - ... quantas vacas, gatos e porcos? <i>tinham uma vaca, três gatos e dois porcos.</i> $3+1+2=6$</p>
 <p>“O velhinho, a velhinha, a vaca castanha, os dois porcos barrigudos ...”</p>	<p>1 - Quem é o primeiro a puxar o nabo? <i>É o velhinho.</i></p> <p>2 - Quem é o terceiro a puxar pelo nabo? <i>É a vaca.</i></p> <p>3 - Quem está entre o velhinho e a vaca? <i>É a velhinha</i></p> <p>4 - O que representa $1+2+3+4+5+6=$ <i>Representa os animais da quinta</i></p>
 <p>“A velhinha foi até à cozinha e vestiu o avental...”</p>	<p>1 - Observa o avental da velhinha. Quantos frutos vês desenhados? <i>três</i></p> <p>2 - A velhinha tem cinco aventais como este. Quantos frutos desenhados há nos cinco aventais? <i>quinze</i> $3+3+3+3+3=15$</p> <p>3 - Desenha um avental mas decorado a teu gosto</p> 



Ficha de trabalho de Matemática

Nome: Baruna

Data: 19/02/2009



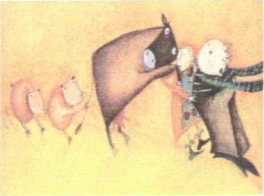


Imagem	Exploração
 <p>“ O velhinho e a velhinha viviam juntos numa casinha ...”</p>	<p>1 - Quantas janelas tem a casinha? A cozinha tem 3 janelas</p> <p>2 - Quantos vidros tem a casinha? Vidros são 12</p> <p>3 - Cinco casinhas iguais à dos velhinhos quantas janelas têm? Eram 15 janelas $3+3+3+3+3=15$</p>
 <p>“O velhinho e a velhinha tinham...”</p>	<p>1 - ... quantos canários e galinhas? Seis canários e quatro galinhas $6+4=10$</p> <p>2 - ... quantas vacas, gatos e porcos? $1+3+2=6$ Uma vaca três gatos e 2 porcos</p>
 <p>“O velhinho, a velhinha, a vaca castanha, os dois porcos barrigudos ...”</p>	<p>1 - Quem é o primeiro a puxar o nabo? O velhote</p> <p>2 - Quem é o terceiro a puxar pelo nabo? A vaca</p> <p>3 - Quem está entre o velhinho e a vaca? A velhota</p> <p>4 - O que representa $1+2+3+4+5+6=$ Representa o número de animais</p>
 <p>“A velhinha foi até à cozinha e vestiu o avental...”</p>	<p>1 - Observa o avental da velhinha. Quantos frutos vês desenhados? Tem três frutos</p> <p>2 - A velhinha tem cinco aventais como este. Quantos frutos desenhados há nos cinco aventais? Tem 15 frutos $3+3+3+3+3$</p> <p>3 - Desenha um avental mas decorado a teu gosto</p> 



Ficha de trabalho de Matemática

Nome : Bruna Maria

Data : 19/06/2019






Imagem	Exploração
 <p>“ O velhinho e a velhinha viviam juntos numa casinha ...”</p>	<p>1 - Quantas janelas tem a casinha? A casinha tem 3 janelas.</p> <p>2 - Quantos vidros tem a casinha? A casinha tem 12 vidros.</p> <p>3 - Cinco casinhas iguais à dos velhinhos quantas janelas têm? Tem 15 janelas com as cinco janelas.</p>
 <p>“O velhinho e a velhinha tinham...”</p>	<p>1 - ... quantos canários e galinhas? Há dez galinhas e canários $4+6=10$</p> <p>2 - ... quantas vacas, gatos e porcos? $1+3+2=6$ Há seis, 1 vaca, 3 gatos e 2 porcos.</p>
 <p>“O velhinho, a velhinha, a vaca castanha, os dois porcos barrigudos ...”</p>	<p>1 - Quem é o primeiro a puxar o nabo? O primeiro a puxar o nabo é o velhinho.</p> <p>2 - Quem é o terceiro a puxar pelo nabo? O terceiro a puxar pelo nabo é a vaca.</p> <p>3 - Quem está entre o velhinho e a vaca? Quem está entre o velhinho e a vaca é a velhinha.</p> <p>4 - O que representa $1+2+3+4+5+6=21$? Representa os animais da quinta.</p>
 <p>“A velhinha foi até à cozinha e vestiu o avental...”</p>	<p>1 - Observa o avental da velhinha. Quantos frutos vês desenhados? Eu vejo 3 frutos.</p> <p>2 - A velhinha tem cinco aventais como este. Quantos frutos desenhados há nos cinco aventais? Há 15 frutos.</p> <p>3 - Desenha um avental mas decorado a teu gosto</p> 



Ficha de trabalho de Matemática

Nome : Carlota

Data : 19/06/2009






Imagem	Exploração
 <p>“ O velhinho e a velhinha viviam juntos numa casinha ... ”</p>	<p>1 - Quantas janelas tem a casinha? Há três janelas.</p> <p>2 - Quantos vidros tem a casinha? Há doze vidros.</p> <p>3 - Cinco casinhas iguais à dos velhinhos quantas janelas têm? $3+3+3+3+3=15$</p>
 <p>“O velhinho e a velhinha tinham...”</p>	<p>1 - ... quantos canários e galinhas? $6+4=10$ canários e 4 galinhas.</p> <p>2 - ... quantas vacas, gatos e porcos? $1+3+2=6$ vacas, 3 gatos e 2 porcos.</p>
 <p>“O velhinho, a velhinha, a vaca castanha, os dois porcos barrigudos ...”</p>	<p>1 - Quem é o primeiro a puxar o nabo? O velho.</p> <p>2 - Quem é o terceiro a puxar pelo nabo? A vaca.</p> <p>3 - Quem está entre o velhinho e a vaca? A velha.</p> <p>4 - O que representa $1+2+3+4+5+6=21$? São 21 animais.</p>
 <p>“A velhinha foi até à cozinha e vestiu o avental...”</p>	<p>1 - Observa o avental da velhinha. Quantos frutos vês desenhados? Tem três.</p> <p>2 - A velhinha tem cinco aventais como este. Quantos frutos desenhados há nos cinco aventais? $3+3+3+3+3=15$</p> <p>3 - Desenha um avental mas decorado à teu gosto</p> 



Ficha de trabalho de Matemática

Nome : Diogo

Data : 19/06/2009








Imagem	Exploração
 <p>“ O velhinho e a velhinha viviam juntos numa casinha ... ”</p>	<p>1 - Quantas janelas tem a casinha? A casinha tem 3 janelas.</p> <p>2 - Quantos vidros tem a casinha? A casinha tem 12 vidros.</p> <p>3 - Cinco casinhas iguais à dos velhinhos quantas janelas têm? Têm 15 janelas. $3+3+3+3+3 = 15$</p>
 <p>“O velhinho e a velhinha tinham...”</p>	<p>1 - ... quantos canários e galinhas? Têm 6 canários e 4 galinhas. $6+4 = 10$</p> <p>2 - ... quantas vacas, gatos e porcos? Têm 1 vaca, 3 gatos e 2 porcos. $1+3+2 = 6$</p>
 <p>“O velhinho, a velhinha, a vaca castanha, os dois porcos barrigudos ...”</p>	<p>1 - Quem é o primeiro a puxar o nabo? É o velhinho.</p> <p>2 - Quem é o terceiro a puxar pelo nabo? É a vaca.</p> <p>3 - Quem está entre o velhinho e a vaca? A velhinha</p> <p>4 - O que representa $1+2+3+4+5+6 = 21$ Os animais da quinta.</p>
 <p>“A velhinha foi até à cozinha e vestiu o avental...”</p>	<p>1 - Observa o avental da velhinha. Quantos frutos vês desenhados? Vejo 3 frutos.</p> <p>2 - A velhinha tem cinco aventais como este. Quantos frutos desenhados há nos cinco aventais? Há 15 frutos $3+3+3+3+3 = 15$</p> <p>3 - Desenha um avental mas decorado a teu gosto</p> 



Ficha de trabalho de Matemática

Nome : Dulce

Data : 19/06/2009



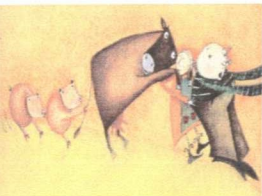


Imagem	Exploração
 <p>“ O velhinho e a velhinha viviam juntos numa casinha ...”</p>	<p>1 - Quantas janelas tem a casinha? tem 3</p> <p>2 - Quantos vidros tem a casinha? tem 12</p> <p>3 - Cinco casinhas iguais à dos velhinhos quantas janelas têm? tem 15</p>
 <p>“O velhinho e a velhinha tinham...”</p>	<p>1 - ... quantos canários e galinhas? galinhas 4 canários 6 $4 + 6 = 10$</p> <p>2 - ... quantas vacas, gatos e porcos? $1 + 3 + 2 = 6$ vacas 1 gatos 3 e porcos 2</p>
 <p>“O velhinho, a velhinha, a vaca castanha, os dois porcos barrigudos ...”</p>	<p>1 - Quem é o primeiro a puxar o nabo? o velhinho</p> <p>2 - Quem é o terceiro a puxar pelo nabo? a vaca.</p> <p>3 - Quem está entre o velhinho e a vaca? a velhinha</p> <p>4 - O que representa $1 + 2 + 3 + 4 + 5 + 6 = 21$ é o número dos animais é 21</p>
 <p>“A velhinha foi até à cozinha e vestiu o avental...”</p>	<p>1 - Observa o avental da velhinha. Quantos frutos vês desenhados?  = 3</p> <p>2 - A velhinha tem cinco aventais como este. Quantos frutos desenhados há nos cinco aventais?  + 3 + 3 + 3 + 3 = 15</p> <p>3 - Desenha um avental mas decorado a teu gosto </p>



Ficha de trabalho de Matemática

Nome : Francisco

Data : 19/6/2009






Imagem	Exploração
 <p>“ O velhinho e a velhinha viviam juntos numa casinha ...”</p>	<p>1 - Quantas janelas tem a casinha? . A casinha tem três janelas.</p> <p>2 - Quantos vidros tem a casinha? A casinha tem 12 vidros.</p> <p>3 - Cinco casinhas iguais à dos velhinhos quantas janelas têm? 5 casas iguais à dos velhinhos tem $5+5+5=15$.</p>
 <p>“O velhinho e a velhinha tinham...”</p>	<p>1 - ... quantos canários e galinhas? Tinham 6 canários e 4 galinhas. $6+4=10$</p> <p>2 - ... quantas vacas, gatos e porcos? Tinham 1 vaca, 2 porcos e 3 gatos $1+3+2=6$</p>
 <p>“O velhinho, a velhinha, a vaca castanha, os dois porcos barrigudos ...”</p>	<p>1 - Quem é o primeiro a puxar o nabo? O primeiro a puxar o nabo foi o velhinho.</p> <p>2 - Quem é o terceiro a puxar pelo nabo? É a vaca castanha.</p> <p>3 - Quem está entre o velhinho e a vaca? É a velhinha.</p> <p>4 - O que representa $1+2+3+4+5+6 =$ Isto representa os animais.</p>
 <p>“A velhinha foi até à cozinha e vestiu o avental...”</p>	<p>1 - Observa o avental da velhinha. Quantos frutos vês desenhados? Sem 3 frutos.</p> <p>2 - A velhinha tem cinco aventais como este. Quantos frutos desenhados há nos cinco aventais? Sem $3+3+3+3+3=15$</p> <p>3 - Desenha um avental mas decorado a teu gosto</p> 



Ficha de trabalho de Matemática

Nome : Francisco Boncecho

Data : 19/06/09





Imagem	Exploração
 <p>“ O velhinho e a velhinha viviam juntos numa casinha ...”</p>	<p>1 - Quantas janelas tem a casinha? <i>tem três janela</i></p> <p>2 - Quantos vidros tem a casinha? <i>doze vidros</i></p> <p>3 - Cinco casinhas iguais à dos velhinhos quantas janelas têm? <i>cincos casinhas tem quinze janelas.</i></p>
 <p>“O velhinho e a velhinha tinham...”</p>	<p>1 - ... quantos canários e galinhas? <i>são dez galinha e canários</i></p> <p>2 - ... quantas vacas, gatos e porcos? $6 + 4 = 10$ <i>são seis $3 + 2 + 1 = 6$</i></p>
 <p>“O velhinho, a velhinha, a vaca castanha, os dois porcos barrigudos ...”</p>	<p>1 - Quem é o primeiro a puxar o nabo? <i>o velhinho</i></p> <p>2 - Quem é o terceiro a puxar pelo nabo? <i>a vaca</i></p> <p>3 - Quem está entre o velhinho e a vaca? <i>a velhinha</i></p> <p>4 - O que representa $1 + 2 + 3 + 4 + 5 + 6 = 21$ <i>do vinte e um</i></p>
 <p>“A velhinha foi até à cozinha e vestiu o avental...”</p>	<p>1 - Observa o avental da velhinha. Quantos frutos vês desenhados? <i>No avental da velhinha estão três frutos desenhados.</i></p> <p>2 - A velhinha tem cinco aventais como este. Quantos frutos desenhados há nos cinco aventais? <i>Estão quinze frutos nos aventais</i></p> <p>3 - Desenha um avental mas decorado a teu gosto</p> 



Ficha de trabalho de Matemática

Nome : Helena

Data : 19/06/2009






Imagem	Exploração
 <p>“ O velhinho e a velhinha viviam juntos numa casinha ... ”</p>	<p>1 - Quantas janelas tem a casinha? A casa tem 3 janelas</p> <p>2 - Quantos vidros tem a casinha? A casa tem 12 vidros</p> <p>3 - Cinco casinhas iguais à dos velhinhos quantas janelas têm? Cinco casinhas iguais à dos velhinhos tem 15 janelas</p>
 <p>“O velhinho e a velhinha tinham...”</p>	<p>1 - ... quantos canários e galinhas? Eles tinham 10 canários e galinhas</p> <p>2 - ... quantas vacas, gatos e porcos? Eles tinham 6 vacas, porcos e gatos</p>
 <p>“O velhinho, a velhinha, a vaca castanha, os dois porcos barrigudos ...”</p>	<p>1 - Quem é o primeiro a puxar o nabo? O primeiro a puxar o nabo é o velhinho.</p> <p>2 - Quem é o terceiro a puxar pelo nabo? O terceiro a puxar o nabo é a vaca.</p> <p>3 - Quem está entre o velhinho e a vaca? Quem está entre o velhinho e a vaca é a velhinha.</p> <p>4 - O que representa $1+2+3+4+5+6=$ Representa por ordem crescente os animais da quinta.</p>
 <p>“A velhinha foi até à cozinha e vestiu o avental...”</p>	<p>1 - Observa o avental da velhinha. Quantos frutos vês desenhados? Eu vejo três frutos no avental.</p> <p>2 - A velhinha tem cinco aventais como este. Quantos frutos desenhados há nos cinco aventais? Nos cinco aventais há 15 frutos.</p> <p>3 - Desenha um avental mas decorado a teu gosto</p> 



Ficha de trabalho de Matemática

Nome : Yoana

Data : 19/06/2009






Imagem	Exploração
 <p>“ O velhinho e a velhinha viviam juntos numa casinha ... ”</p>	<p>1 - Quantas janelas tem a casinha? A casinha tem 3 janelas.</p> <p>2 - Quantos vidros tem a casinha? A casinha tem 12 vidros. $3+3+3+3=12$</p> <p>3 - Cinco casinhas iguais à dos velhinhos quantas janelas têm? 5 casinhas iguais à dos velhinhos têm 15 janelas.</p>
 <p>“O velhinho e a velhinha tinham...”</p>	<p>1 - ... quantos canários e galinhas? $6+4=10$ Os velhinhos têm 10 canários e galinhas.</p> <p>2 - ... quantas vacas, gatos e porcos? Os velhinhos têm 6 vacas, gatos e porcos.</p>
 <p>“O velhinho, a velhinha, a vaca castanha, os dois porcos barrigudos ...”</p>	<p>1 - Quem é o primeiro a puxar o nabo? O primeiro a puxar o nabo é o velhinho.</p> <p>2 - Quem é o terceiro a puxar pelo nabo? O terceiro a puxar pelo nabo é a vaca.</p> <p>3 - Quem está entre o velhinho e a vaca? Entre o velhinho e a vaca está a velhinha.</p> <p>4 - O que representa $1+2+3+4+5+6=$ Representa o número de animais que havião na quinta.</p>
 <p>“A velhinha foi até à cozinha e vestiu o avental...”</p>	<p>1 - Observa o avental da velhinha. Quantos frutos vês desenhados? O avental da velhinha tem 3 frutos desenhados.</p> <p>2 - A velhinha tem cinco aventais como este. Quantos frutos desenhados há nos cinco aventais? Nos 5 aventais há 15 frutos desenhados. $3+3+3+3+3=15$</p> <p>3 - Desenha um avental mas decorado a teu gosto</p> 



Ficha de trabalho de Matemática

Nome : João

Data : 19/06/2009






Imagem	Exploração
 <p>“ O velhinho e a velhinha viviam juntos numa casinha ...”</p>	<p>1 - Quantas janelas tem a casinha? Têm 3.</p> <p>2 - Quantos vidros tem a casinha? Têm 12.</p> <p>3 - Cinco casinhas iguais à dos velhinhos quantas janelas têm? $5 \times 3 = 15$.</p>
 <p>“O velhinho e a velhinha tinham...”</p>	<p>1 - ... quantos canários e galinhas? $6 + 4 = 10$ Têm 6 canários e 4 galinhas.</p> <p>2 - ... quantas vacas, gatos e porcos? Têm 1 vaca, 3 gatos e 2 porcos. $1 + 3 + 2 = 6$</p>
 <p>“O velhinho, a velhinha, a vaca castanha, os dois porcos barrigudos ...”</p>	<p>1 - Quem é o primeiro a puxar o nabo? É o velhinho.</p> <p>2 - Quem é o terceiro a puxar pelo nabo? É a vaca.</p> <p>3 - Quem está entre o velhinho e a vaca? É a velhinha.</p> <p>4 - O que representa $1 + 2 + 3 + 4 + 5 + 6 =$ Representa os animais por crescente.</p>
 <p>“A velhinha foi até à cozinha e vestiu o avental...”</p>	<p>1 - Observa o avental da velhinha. Quantos frutos vês desenhados? Vejo 3 frutos.</p> <p>2 - A velhinha tem cinco aventais como este. Quantos frutos desenhados há nos cinco aventais? Há $5 \times 3 = 15$.</p> <p>3 - Desenha um avental mas decorado a teu gosto</p> 



Ficha de trabalho de Matemática

Nome : Ygoré

Data : 19/06/09






Imagem	Exploração
 <p>“ O velhinho e a velhinha viviam juntos numa casinha ...”</p>	<p>1 - Quantas janelas tem a casinha? A casa tinha três janelas. $7+7+7$</p> <p>2 - Quantos vidros tem a casinha? A cozinha tem doze janelas.</p> <p>3 - Cinco casinhas iguais à dos velhinhos quantas janelas têm? Seis e quinze janelas.</p>
 <p>“O velhinho e a velhinha tinham...”</p>	<p>1 - ... quantos canários e galinhas? seis canários e 4 galinhas. $6+4=10$</p> <p>2 - ... quantas vacas, gatos e porcos? 1 vaca, 3 e dois porcos. $1+2+3=6$</p>
 <p>“O velhinho, a velhinha, a vaca castanha, os dois porcos barrigudos ...”</p>	<p>1 - Quem é o primeiro a puxar o nabo? é o velho.</p> <p>2 - Quem é o terceiro a puxar pelo nabo? São os porcos.</p> <p>3 - Quem está entre o velhinho e a vaca? é a velha</p> <p>4 - O que representa $1+2+3+4+5+6 = 21$ São todos os animais.</p>
 <p>“A velhinha foi até à cozinha e vestiu o avental...”</p>	<p>1 - Observa o avental da velhinha. Quantos frutos vês desenhados? três maçãs</p> <p>2 - A velhinha tem cinco aventais como este. Quantos frutos desenhados há nos cinco aventais? quinze maçãs</p> <p>3 - Desenha um avental mas decorado a teu gosto</p> 



Ficha de trabalho de Matemática

Nome : Luis

Data : 19/06/2009






Imagem	Exploração
 <p>“ O velhinho e a velhinha viviam juntos numa casinha ... ”</p>	<p>1 - Quantas janelas tem a casinha? A casinha tem três janelas.</p> <p>2 - Quantos vidros tem a casinha? A casinha tem doze vidros. $4 + 4 + 4 = 12$</p> <p>3 - Cinco casinhas iguais à dos velhinhos quantas janelas têm? Têm quinze janelas. $3 + 3 + 3 + 3 + 3 = 15$</p>
 <p>“O velhinho e a velhinha tinham...”</p>	<p>1 - ... quantos canários e galinhas? Têm seis canários e quatro galinhas. $6 + 4 = 10$</p> <p>2 - ... quantas vacas, gatos e porcos? Têm três gatos, uma vaca dois porcos. $3 + 1 + 2 = 6$</p>
 <p>“O velhinho, a velhinha, a vaca castanha, os dois porcos barrigudos ...”</p>	<p>1 - Quem é o primeiro a puxar o nabo? É o velhinho.</p> <p>2 - Quem é o terceiro a puxar pelo nabo? É a vaca.</p> <p>3 - Quem está entre o velhinho e a vaca? É a velhinha.</p> <p>4 - O que representa $1 + 2 + 3 + 4 + 5 + 6 =$ Tão os animais da quinta.</p>
 <p>“A velhinha foi até à cozinha e vestiu o avental...”</p>	<p>1 - Observa o avental da velhinha. Quantos frutos vês desenhados? vejo três frutos.</p> <p>2 - A velhinha tem cinco aventais como este. Quantos frutos desenhados há nos cinco aventais? Há quinze frutos. $3 + 3 + 3 + 3 + 3 = 15$</p> <p>3 - Desenha um avental mas decorado a teu gosto</p> 



Ficha de trabalho de Matemática

Nome : Manuel

Data : 19/06/2009


Imagem	Exploração
 <p>“ O velhinho e a velhinha viviam juntos numa casinha ... ”</p>	<p>1 - Quantas janelas tem a casinha? Tem três janelas.</p> <p>2 - Quantos vidros tem a casinha? Tem doze vidros</p> <p>3 - Cinco casinhas iguais à dos velhinhos quantas janelas têm? Tem 15 janelas e .</p>
 <p>“O velhinho e a velhinha tinham...”</p>	<p>1 - ... quantos canários e galinhas? Há dez galinhas e canários $4 + 6 = 10$</p> <p>2 - ... quantas vacas, gatos e porcos? Há seis vacas, $1 + 3 + 2 = 6$ porcos e gatos</p>
 <p>“O velhinho, a velhinha, a vaca castanha, os dois porcos barrigudos ...”</p>	<p>1 - Quem é o primeiro a puxar o nabo? Foi o velho</p> <p>2 - Quem é o terceiro a puxar pelo nabo? Foi a vaca</p> <p>3 - Quem está entre o velhinho e a vaca? Esta a velha</p> <p>4 - O que representa $1 + 2 + 3 + 4 + 5 + 6 = 21$ Representa os animais do quinta</p>
 <p>“A velhinha foi até à cozinha e vestiu o avental...”</p>	<p>1 - Observa o avental da velhinha. Quantos frutos vês desenhados? Tem três frutos.</p> <p>2 - A velhinha tem cinco aventais como este. Quantos frutos desenhados há nos cinco aventais? $3 + 3 + 3 + 3 + 3 = 15$</p> <p>3 - Desenha um avental mas decorado a teu gosto</p> 



Ficha de trabalho de Matemática

Nome : Manuel Maria

Data : 19/06/2009






Imagem	Exploração
 <p>“ O velhinho e a velhinha viviam juntos numa casinha ...”</p>	<p>1 - Quantas janelas tem a casinha? Sem 3 janelas.</p> <p>2 - Quantos vidros tem a casinha? Sem 12 vidros.</p> <p>3 - Cinco casinhas iguais à dos velinhos quantas janelas têm? Sem $5+5+5=15$ janelas.</p>
 <p>“O velhinho e a velhinha tinham...”</p>	<p>1 - ... quantos canários e galinhas? Sem 6 canários e 4 galinhas. $6+4=10$</p> <p>2 - ... quantas vacas, gatos e porcos? Sem 1 vaca, 3 gatos e 2 porcos. $1+3+2=6$</p>
 <p>“O velhinho, a velhinha, a vaca castanha, os dois porcos barrigudos ...”</p>	<p>1 - Quem é o primeiro a puxar o nabo? O primeiro a puxar o nabo é o velhinho.</p> <p>2 - Quem é o terceiro a puxar pelo nabo? O terceiro a puxar o nabo é a vaca.</p> <p>3 - Quem está entre o velhinho e a vaca? Entre o velhinho e a vaca é a velhinha.</p> <p>4 - O que representa $1+2+3+4+5+6=$ Representa os números de animais da quinta</p>
 <p>“A velhinha foi até à cozinha e vestiu o avental...”</p>	<p>1 - Observa o avental da velhinha. Quantos frutos vês desenhados? Vê-se desenhados 3 frutos.</p> <p>2 - A velhinha tem cinco aventais como este. Quantos frutos desenhados há nos cinco aventais? Nos cinco aventais há 15 frutos desenhados $3+3+3+3+3=15$</p> <p>3 - Desenha um avental mas decorado a teu gosto</p> 




Ficha de trabalho de Matemática

Nome : Maaria

Data : 19/06/2009






Imagem	Exploração
 <p>“ O velhinho e a velhinha viviam juntos numa casinha ...”</p>	<p>1 - Quantas janelas tem a casinha? a casinha tem 3 janelas.</p> <p>2 - Quantos vidros tem a casinha? a casinha tem 2 vidros.</p> <p>3 - Cinco casinhas iguais à dos velhinhos quantas janelas têm? cinco casinhas iguais 15 janelas.</p>
 <p>“O velhinho e a velhinha tinham...”</p>	<p>1 - ... quantos canários e galinhas? $6 + 4 = 10$</p> <p>2 - ... quantas vacas, gatos e porcos? $1 + 3 + 2 = 6$</p>
 <p>“O velhinho, a velhinha, a vaca castanha, os dois porcos barrigudos ...”</p>	<p>1 - Quem é o primeiro a puxar o nabo? o primeiro a puxar o nabo é o velhinho.</p> <p>2 - Quem é o terceiro a puxar pelo nabo? o terceiro a puxar o nabo é a vaca.</p> <p>3 - Quem está entre o velhinho e a vaca? o velhinho</p> <p>4 - O que representa $1 + 2 + 3 + 4 + 5 + 6 =$ Representa os animais da quinta</p>
 <p>“A velhinha foi até à cozinha e vestiu o avental...”</p>	<p>1 - Observa o avental da velhinha. Quantos frutos vês desenhados? Eu vejo três frutos.</p> <p>2 - A velhinha tem cinco aventais como este. Quantos frutos desenhados há nos cinco aventais? Nos cinco aventais tem 15 frutos.</p> <p>3 - Desenha um avental mas decorado a teu gosto</p> 



Ficha de trabalho de Matemática

Nome : Marta

Data : 19/05/2009






Imagem	Exploração
 <p>“ O velhinho e a velhinha viviam juntos numa casinha ...”</p>	<p>1 - Quantas janelas tem a casinha? <u>Tem três janelas.</u></p> <p>2 - Quantos vidros tem a casinha? <u>Tem doze vidros.</u></p> <p>3 - Cinco casinhas iguais à dos velhinhos quantas janelas têm? <u>$3+3+3+3+3=15$ janelas.</u></p>
 <p>“O velhinho e a velhinha tinham...”</p>	<p>1 - ... quantos canários e galinhas? <u>quatro galinhas e 6 canários.</u> <u>$4+6=10$</u></p> <p>2 - ... quantas vacas, gatos e porcos? <u>uma vaca, três gatos e dois porcos.</u> <u>$1+3+2=6$</u></p>
 <p>“O velhinho, a velhinha, a vaca castanha, os dois porcos barrigudos ...”</p>	<p>1 - Quem é o primeiro a puxar o nabo? <u>o velhinho.</u></p> <p>2 - Quem é o terceiro a puxar pelo nabo? <u>a vaca.</u></p> <p>3 - Quem está entre o velhinho e a vaca? <u>a velhinha.</u></p> <p>4 - O que representa $1+2+3+4+5+6=$ <u>a vaca, dois porcos, três gatos, quatro galinhas, cinco patos e seis canários.</u></p>
 <p>“A velhinha foi até à cozinha e vestiu o avental...”</p>	<p>1 - Observa o avental da velhinha. Quantos frutos vês desenhados? <u>Vejo três frutos.</u></p> <p>2 - A velhinha tem cinco aventais como este. Quantos frutos desenhados há nos cinco aventais? <u>Há 15 frutos.</u> <u>$3+3+3+3+3=15$</u></p> <p>3 - Desenha um avental mas decorado a teu gosto</p> 



Ficha de trabalho de Matemática

Nome : Pedro

Data : 28/06/2009



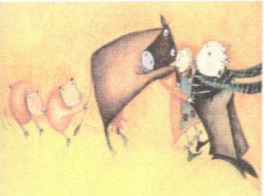


Imagem	Exploração
 <p>“ O velhinho e a velhinha viviam juntos numa casinha ...”</p>	<p>1 - Quantas janelas tem a casinha? <i>A casinha tem três janelas.</i></p> <p>2 - Quantos vidros tem a casinha? <i>A casinha tem 12 vidros</i></p> <p>3 - Cinco casinhas iguais à dos velhinhos quantas janelas têm? <i>tem 15 janelas</i></p>
 <p>“O velhinho e a velhinha tinham...”</p>	<p>1 - ... quantos canários e galinhas? <i>canários e galinhas = 10</i> $8 + 4 = 10$</p> <p>2 - ... quantas vacas, gatos e porcos? <i>vaca, porcos e gatos = 6</i> $2 + 1 + 3 = 6$</p>
 <p>“O velhinho, a velhinha, a vaca castanha, os dois porcos barrigudos ...”</p>	<p>1 - Quem é o primeiro a puxar o nabo? <i>O primeiro a puxar o nabo é o velhinho</i></p> <p>2 - Quem é o terceiro a puxar pelo nabo? <i>O terceiro a puxar o nabo é a vaca</i></p> <p>3 - Quem está entre o velhinho e a vaca? <i>o velhinho e a vaca</i></p> <p>4 - O que representa $1 + 2 + 3 + 4 + 5 + 6 = 21$? <i>Representa os animais da quinta</i></p>
 <p>“A velhinha foi até à cozinha e vestiu o avental...”</p>	<p>1 - Observa o avental da velhinha. Quantos frutos vês desenhados? <i>No avental da velhinha tem 3 frutos</i></p> <p>2 - A velhinha tem cinco aventais como este. Quantos frutos desenhados há nos cinco aventais? <i>A velhinha tem 15 frutos.</i></p> <p>3 - Desenha um avental mas decorado a teu gosto</p> 



Ficha de trabalho de Matemática

Nome: Tatiana

Data: 19/6/2009






Imagem	Exploração
 <p>“ O velhinho e a velhinha viviam juntos numa casinha ...”</p>	<p>1 - Quantas janelas tem a casinha? <i>A casinha tem 3 janelas</i></p> <p>2 - Quantos vidros tem a casinha? <i>Tem 12 vidros</i> $4+4+4=12$</p> <p>3 - Cinco casinhas iguais à dos velhinhos quantas janelas têm? <i>Tem 15</i> $3+3+3+3+3=15$</p>
 <p>“O velhinho e a velhinha tinham...”</p>	<p>1 - ... quantos canários e galinhas? <i>canários 6 e 4 galinhas</i> $6+4=10$</p> <p>2 - ... quantas vacas, gatos e porcos? <i>vacas 1, gatos 2, 2 porcos</i> $1+2+3=6$</p>
 <p>“O velhinho, a velhinha, a vaca castanha, os dois porcos barrigudos ...”</p>	<p>1 - Quem é o primeiro a puxar o nabo? <i>É o velhinho</i></p> <p>2 - Quem é o terceiro a puxar pelo nabo? <i>É a vaca</i></p> <p>3 - Quem está entre o velhinho e a vaca? <i>É a velhinha</i></p> <p>4 - O que representa $1+2+3+4+5+6=21$? <i>Os animais da quinta</i></p>
 <p>“A velhinha foi até à cozinha e vestiu o avental...”</p>	<p>1 - Observa o avental da velhinha. Quantos frutos vês desenhados? <i>Ela tem 3 frutos desenhados</i></p> <p>2 - A velhinha tem cinco aventais como este. Quantos frutos desenhados há nos cinco aventais? <i>Eles têm 15 frutos</i></p> <p>3 - Desenha um avental mas decorado a teu gosto</p> 



Ficha de trabalho de Matemática

Nome : Tiago

Data : 19/06/2009

Imagem	Exploração
 <p>“ O velhinho e a velhinha viviam juntos numa casinha ... ”</p>	<p>1 - Quantas janelas tem a casinha? A casinha tem três janelas.</p> <p>2 - Quantos vidros tem a casinha? A casinha tem doze vidros.</p> <p>3 - Cinco casinhas iguais à dos velhinhos quantas janelas têm? Com mais cinco casas as janelas são 15.</p>
 <p>“O velhinho e a velhinha tinham...”</p>	<p>1 - ... quantos canários e galinhas? São seis canários e quatro galinhas. $6+4=10$</p> <p>2 - ... quantas vacas, gatos e porcos? É uma vaca, três gatos e dois porcos. $1+3+2=6$</p>
 <p>“O velhinho, a velhinha, a vaca castanha, os dois porcos barrigudos ...”</p>	<p>1 - Quem é o primeiro a puxar o nabo? O primeiro a puxar o nabo é o velhinho.</p> <p>2 - Quem é o terceiro a puxar pelo nabo? O terceiro a puxar o nabo é a vaca.</p> <p>3 - Quem está entre o velhinho e a vaca? Quem está entre o velhinho e a vaca é a velhinha.</p> <p>4 - O que representa $1+2+3+4+5+6=21$? Representa o número de animais da quinta.</p>
 <p>“A velhinha foi até à cozinha e vestiu o avental...”</p>	<p>1 - Observa o avental da velhinha. Quantos frutos vês desenhados? Vejo três frutos.</p> <p>2 - A velhinha tem cinco aventais como este. Quantos frutos desenhados há nos cinco aventais? Se todos são 15 frutos.</p> <p>3 - Desenha um avental mas decorado a teu gosto</p> 

ANEXO III





Ficha de Estudo do Meio



Ficha de trabalho - Estudo do Meio

Nome : _____

Data : ___ / ___ / ___





<i>Imagem</i>	<i>Exploração</i>
 <p>“ O velhinho e a velhinha viviam juntos numa casinha...”</p>	<p>1- <i>À descoberta das inter-relações entre espaços – A Casa</i></p> <p>a) <i>Que tipo de casa está representada na gravura?</i></p> <p>Casa de campo <input type="checkbox"/> apartamento <input type="checkbox"/> moradia na cidade <input type="checkbox"/></p> <p>b) <i>Para ti a casa dos velhinhos era pequena ou grande?</i></p> <p>_____</p>
 <p>“... o velhinho sentou-se na cama, cheirou o ar fresco do Outono...”</p>	<p>1 - <i>Em que espaço da casa estava a cama do velhinho?</i></p> <p>_____</p> <p>2 - <i>Que outros espaços há numa casa?</i></p> <p>_____</p> <p>3- <i>Quais as funções desses espaços?</i></p> <p>_____</p> <p>_____</p>
 <p>“ Naquela noite choveu – ping, ping! O velhinho e a velhinha adormeceram a sorrir ... ”</p>	<p><i>À descoberta do ambiente natural – Seres vivos do seu ambiente</i></p> <p>1 – <i>O que representa a imagem?</i></p> <p>_____</p> <p>2 – <i>Por que é que os velhinhos adormeceram a sorrir?</i></p> <p>_____</p> <p>3- <i>As plantas e os animais da quinta são seres vivos. O que são seres vivos?</i> _____</p> <p>4- <i>O que é que precisam as plantas para crescerem?</i></p> <p>_____</p>
 <p>“Numa bela manhã de Primavera o velhinho e a velhinha semearam os legumes.”</p>	<p>1 – <i>O que é a Primavera?</i></p> <p>_____</p> <p>2 – <i>Quantas estações tem o ano?</i></p> <p>_____</p> <p>2- <i>Quantas estações estão referidas na narrativa?</i></p> <p>_____</p> <p>3 – <i>Qual a estação que falta no texto?</i></p> <p>_____</p>



Ficha de trabalho - Estudo do Meio

Nome : Alfonso

Data : 16/06/2009





Imagem	Exploração
 <p>“ O velhinho e a velhinha vivem juntos numa casinha...”</p>	<p>1- À descoberta das inter-relações entre espaços – A Casa</p> <p>a) Que tipo de casa está representada na gravura?</p> <p>Casa de campo <input checked="" type="checkbox"/> apartamento <input type="checkbox"/> moradia na cidade <input type="checkbox"/></p> <p>b) Para ti a casa dos velhinhos era pequena ou grande?</p> <p><u>a casa era grande</u></p>
 <p>“... o velhinho sentou-se na cama, cheirou o ar fresco do Outono...”</p>	<p>1 - Em que espaço da casa estava a cama do velhinho?</p> <p><u>A cama do velhinho estava no quarto</u></p> <p>2 - Que outros espaços há numa casa?</p> <p><u>A casa há cozinha, sala, estar e casa de banho</u></p> <p>3- Quais as funções desses espaços?</p> <p><u>A cozinha serve para cozinhar a sala serve para ver televisão e a casa de banho para as necessidades</u></p>
 <p>“ Naquela noite choveu – ping, ping! O velhinho e a velhinha adormeceram a sorrir...”</p>	<p>À descoberta do ambiente natural – Seres vivos do seu ambiente</p> <p>1 - O que representa a imagem?</p> <p><u>A imagem representa chuva.</u></p> <p>2 - Por que é que os velhinhos adormeceram a sorrir?</p> <p><u>Porque a chuva regava as plantas.</u></p> <p>3- As plantas e os animais da quinta são seres vivos. O que são seres vivos?</p> <p><u>Alguns seres alimentam-se e morrem.</u></p> <p>4- O que é que precisam as plantas para crescerem?</p> <p><u>precisam de água, luz e calor</u></p>
 <p>“Numa bela manhã de Primavera o velhinho e a velhinha semearam os legumes.”</p>	<p>1 - O que é a Primavera?</p> <p><u>A primavera é uma estação do ano</u></p> <p>2 - Quantas estações tem o ano?</p> <p><u>Quatro estações</u></p> <p>2- Quantas estações estão referidas na narrativa?</p> <p><u>3: a Primavera, Verão e Outono</u></p> <p>3 - Qual a estação que falta no texto?</p> <p><u>É o Inverno</u></p>



Ficha de trabalho - Estudo do Meio

Nome : Ana

Data : 16/06/2009





Imagem	Exploração
 <p>“ O velhinho e a velhinha viviam juntos numa casinha...”</p>	<p>1- À descoberta das inter-relações entre espaços – A Casa</p> <p>a) Que tipo de casa está representada na gravura? Casa de campo <input checked="" type="checkbox"/> apartamento <input type="checkbox"/> moradia na cidade <input type="checkbox"/></p> <p>b) Para ti a casa dos velhinhos era pequena ou grande? <u>Para mim é pequena</u></p>
 <p>“... o velhinho sentou-se na cama, cheirou o ar fresco do Outono...”</p>	<p>1 - Em que espaço da casa estava a cama do velhinho? <u>entre no quarto dele</u></p> <p>2 - Que outros espaços há numa casa? <u>A cozinha; w.c.; sala e 1 quarto.</u></p> <p>3- Quais as funções desses espaços? <u>A cozinha - comer; w.c - necessidades; quarto - guardar coisas.</u></p>
 <p>“ Naquela noite choveu – ping, ping! O velhinho e a velhinha adormeceram a sorrir...”</p>	<p>A descoberta do ambiente natural – Seres vivos do seu ambiente</p> <p>1 – O que representa a imagem? <u>Uma noite de chuva.</u></p> <p>2 – Por que é que os velhinhos adormeceram a sorrir? <u>Porque a chuva rega a calha, e regar as plantas.</u></p> <p>3- As plantas e os animais da quinta são seres vivos. O que são seres vivos? <u>São os que nascem, alimentam-se e morrem.</u></p> <p>4- O que é que precisam as plantas para crescerem? <u>Precisam de sol, chuva e terra.</u></p>
 <p>“Numa bela manhã de Primavera o velhinho e a velhinha semearam os legumes.”</p>	<p>1 – O que é a Primavera? <u>Uma estação do ano</u></p> <p>2 – Quantas estações tem o ano? <u>tem 4 estações.</u></p> <p>2- Quantas estações estão referidas na narrativa? <u>Estão 3: Primavera, Outono e Verão.</u></p> <p>3 – Qual a estação que falta no texto? <u>O Inverno</u></p>



Ficha de trabalho - Estudo do Meio

Nome : Bruma

Data : 16/6/09





Imagem	Exploração
 <p>“ O velhinho e a velhinha vivem juntos numa casinha...”</p>	<p>1- À descoberta das inter-relações entre espaços – A Casa</p> <p>a) Que tipo de casa está representada na gravura?</p> <p>Casa de campo <input checked="" type="checkbox"/> apartamento <input type="checkbox"/> moradia na cidade <input type="checkbox"/></p> <p>b) Para ti a casa dos velinhos era pequena ou grande?</p> <p><u>Para mim a casa é grande.</u></p>
 <p>“... o velhinho sentou-se na cama, cheirou o ar fresco do Outono...”</p>	<p>1 - Em que espaço da casa estava a cama do velhinho?</p> <p><u>Estava no quarto.</u></p> <p>2 - Que outros espaços há numa casa?</p> <p><u>A casa de banhos, cozinha, sala e quartos.</u></p> <p>3- Quais as funções desses espaços?</p> <p><u>A cozinha é para cozinhar a casa de banhos é para fazer as necessidades e a sala é para se sentarem.</u></p>
 <p>“ Naquela noite choveu – ping, ping! O velhinho e a velhinha adormeceram a sorrir...”</p>	<p>À descoberta do ambiente natural – Seres vivos do seu ambiente</p> <p>1 – O que representa a imagem?</p> <p><u>Representa uma noite chuvosa.</u></p> <p>2 – Por que é que os velinhos adormeceram a sorrir?</p> <p><u>Porque a chuva estava a regar as plantas.</u></p> <p>3- As plantas e os animais da quinta são seres vivos. O que são seres vivos?</p> <p><u>Seres vivos são plantas que nascem reproduzem-se e alimentam-se e movem.</u></p> <p>4- O que é que precisam as plantas para crescerem?</p> <p><u>Água, luz e calor.</u></p>
 <p>“Numa bela manhã de Primavera o velhinho e a velhinha semearam os legumes.”</p>	<p>1 – O que é a Primavera?</p> <p><u>É uma estação do ano.</u></p> <p>2 – Quantas estações tem o ano?</p> <p><u>Tem quatro estações.</u></p> <p>2- Quantas estações estão referidas na narrativa?</p> <p><u>A Primavera, Verão e o Outono</u></p> <p>3 – Qual a estação que falta no texto?</p> <p><u>É o Inverno.</u></p>



Ficha de trabalho - Estudo do Meio

Nome : Druma Maria

Data : 16/06/09





Imagem	Exploração
 <p>“ O velhinho e a velhinha viviam juntos numa casinha...”</p>	<p>1- À descoberta das inter-relações entre espaços – A Casa</p> <p>a) Que tipo de casa está representada na gravura?</p> <p>Casa de campo <input checked="" type="checkbox"/> apartamento <input type="checkbox"/> moradia na cidade <input type="checkbox"/></p> <p>b) Para ti a casa dos velhinhos era pequena ou grande?</p> <p><u>É pequena.</u></p>
 <p>“... o velhinho sentou-se na cama, cheirou o ar fresco do Outono...”</p>	<p>1 - Em que espaço da casa estava a cama do velhinho?</p> <p><u>A cama do velhinho estava no quarto.</u></p> <p>2 - Que outros espaços há numa casa?</p> <p><u>A cozinha, sala, despensa e a casa de banho.</u></p> <p>3- Quais as funções desses espaços?</p> <p><u>As funções desses espaços é para bem estardas pessoas.</u></p>
 <p>“ Naquela noite choveu – ping, ping! O velhinho e a velhinha adormeceram a sorrir...”</p>	<p>À descoberta do ambiente natural – Seres vivos do seu ambiente</p> <p>1 – O que representa a imagem?</p> <p><u>A imagem representa uma noite de chuva.</u></p> <p>2 – Por que é que os velhinhos adormeceram a sorrir?</p> <p><u>Porque a chuva estava a regar os plantas.</u></p> <p>3- As plantas e os animais da quinta são seres vivos. O que são seres vivos?</p> <p><u>Os seres vivos nascem reproduzem-se morrem.</u></p> <p>4- O que é que precisam as plantas para crescerem?</p> <p><u>A água, luz e calor.</u></p>
 <p>“Numa bela manhã de Primavera o velhinho e a velhinha semearam os legumes.”</p>	<p>1 – O que é a Primavera?</p> <p><u>É uma estação do ano.</u></p> <p>2 – Quantas estações tem o ano?</p> <p><u>As estações do ano são 4.</u></p> <p>2- Quantas estações estão referidas na narrativa?</p> <p><u>3: a Primavera, Verão, Outono.</u></p> <p>3 – Qual a estação que falta no texto?</p> <p><u>É o Inverno.</u></p>



Ficha de trabalho - Estudo do Meio

Nome : Carlota

Data : 16 / 06 / 2009





Imagem	Exploração
 <p>“ O velhinho e a velhinha viviam juntos numa casinha...”</p>	<p>1- À descoberta das inter-relações entre espaços – A Casa</p> <p>a) Que tipo de casa está representada na gravura?</p> <p>Casa de campo <input checked="" type="checkbox"/> apartamento <input type="checkbox"/> moradia na cidade <input type="checkbox"/></p> <p>b) Para ti a casa dos velhinhos era pequena ou grande?</p> <p><u>Era um pouco pequena</u></p>
 <p>“... o velhinho sentou-se na cama, cheirou o ar fresco do Outono...”</p>	<p>1 - Em que espaço da casa estava a cama do velhinho?</p> <p><u>A cama no quarto</u></p> <p>2 - Que outros espaços há numa casa?</p> <p><u>Uma cozinha e a sala a despenha</u></p> <p>3- Quais as funções desses espaços?</p> <p><u>São: a sala a casa de banho para a higiene, cozinha para fazer a comida.</u></p>
 <p>“ Naquela noite choveu – ping, ping! O velhinho e a velhinha adormeceram a sorrir ...”</p>	<p>À descoberta do ambiente natural – Seres vivos do seu ambiente</p> <p>1 – O que representa a imagem?</p> <p><u>uma noite a chover</u></p> <p>2 – Por que é que os velhinhos adormeceram a sorrir?</p> <p><u>Porque a chuva faz crescer as plantas</u></p> <p>3– As plantas e os animais da quinta são seres vivos. O que são seres vivos?</p> <p><u>São animais que nascem alimentam-se e morrem.</u></p> <p>4– O que é que precisam as plantas para crescerem?</p> <p><u>água, luz e calor</u></p>
 <p>“Numa bela manhã de Primavera o velhinho e a velhinha semearam os legumes.”</p>	<p>1 – O que é a Primavera?</p> <p><u>É um estação do ano</u></p> <p>2 – Quantas estações tem o ano?</p> <p><u>quatro.</u></p> <p>2- Quantas estações estão referidas na narrativa?</p> <p><u>a Primavera o Verão e o Outono</u></p> <p>3 – Qual a estação que falta no texto?</p> <p><u>o Inverno</u></p>



Ficha de trabalho - Estudo do Meio

Nome : Diogo

Data : 16/06/09





Imagem	Exploração
 <p>“ O velhinho e a velhinha viviam juntos numa casinha...”</p>	<p>1- À descoberta das inter-relações entre espaços – A Casa</p> <p>a) Que tipo de casa está representada na gravura?</p> <p>Casa de campo <input checked="" type="checkbox"/> apartamento <input type="checkbox"/> moradia na cidade <input type="checkbox"/></p> <p>b) Para ti a casa dos velhinhos era pequena ou grande?</p> <p><u>Para mim a casa dos velhinhos era pequena.</u></p>
 <p>“... o velhinho sentou-se na cama, cheirou o ar fresco do Outono...”</p>	<p>1 - Em que espaço da casa estava a cama do velhinho?</p> <p><u>A cama do velhinho estava no quarto.</u></p> <p>2 - Que outros espaços há numa casa?</p> <p><u>Numa casa há a cozinha, a sala, a casa de banho e a ^{despensa}.</u></p> <p>3- Quais as funções desses espaços?</p> <p><u>A função da cozinha serve para cozinhar, a casa de banho serve para fazer a higiene e, sala serve para ver a televisão.</u></p>
 <p>“ Naquela noite choveu – ping, ping! O velhinho e a velhinha adormeceram a sorrir...”</p>	<p>À descoberta do ambiente natural – Seres vivos do seu ambiente</p> <p>1 – O que representa a imagem?</p> <p><u>A imagem representa uma noite de chuva.</u></p> <p>2 – Por que é que os velhinhos adormeceram a sorrir?</p> <p><u>Porque a chuva estava a regar os plantas.</u></p> <p>3– As plantas e os animais da quinta são seres vivos. O que são seres vivos? Seres vivos são seres que nascem, crescem, alimentam-se, reproduzem-se.</p> <p>4– O que é que precisam as plantas para crescerem?</p> <p><u>As plantas precisam de água, luz e calor.</u></p>
 <p>“Numa bela manhã de Primavera o velhinho e a velhinha semearam os legumes.”</p>	<p>1 – O que é a Primavera?</p> <p><u>A Primavera é uma estação do ano.</u></p> <p>2 – Quantas estações tem o ano?</p> <p><u>O ano tem 4 estações</u></p> <p>2– Quantas estações estão referidas na narrativa?</p> <p><u>São 3 estações: Verão, Outono e Primavera</u></p> <p>3 7 Qual a estação que falta no texto?</p> <p><u>o Inverno.</u></p>



Ficha de trabalho - Estudo do Meio

Nome : Dulce

Data : 16/6/2009





Imagem	Exploração
 <p>“ O velhinho e a velhinha viviam juntos numa casinha...”</p>	<p>1- À descoberta das inter-relações entre espaços – A Casa</p> <p>a) Que tipo de casa está representada na gravura?</p> <p>Casa de campo <input checked="" type="checkbox"/> apartamento <input type="checkbox"/> moradia na cidade <input type="checkbox"/></p> <p>b) Para ti a casa dos velhinhos era pequena ou grande?</p> <p><u>et casa dos velhinhos era pequena</u></p>
 <p>“... o velhinho sentou-se na cama, cheirou o ar fresco do Outono...”</p>	<p>1 - Em que espaço da casa estava a cama do velhinho?</p> <p><u>et cama do velhinho estava no quarto.</u></p> <p>2 - Que outros espaços há numa casa?</p> <p><u>há a cozinha a casa de banho, a sala e o quarto...</u></p> <p>3- Quais as funções desses espaços?</p> <p><u>et função da cozinha é para fazer a comida a casa de banho é para fazer as necessidades da sala e o quarto para descansar.</u></p>
 <p>“ Naquela noite choveu – ping, ping! O velhinho e a velhinha adormeceram a sorrir...”</p>	<p>A descoberta do ambiente natural – Seres vivos do seu ambiente</p> <p>1 – O que representa a imagem?</p> <p><u>Uma noite chuvosa.</u></p> <p>2 – Por que é que os velhinhos adormeceram a sorrir?</p> <p><u>porque a chuva estava a regar as sementes.</u></p> <p>3- As plantas e os animais da quinta são seres vivos. O que são seres vivos?</p> <p><u>são seres que nascem alimentam-se, crescem reproduzem, envelhecem e morrem</u></p> <p>4- O que é que precisam as plantas para crescerem?</p> <p><u>de água, luz e calor.</u></p>
 <p>“Numa bela manhã de Primavera o velhinho e a velhinha semearam os legumes.”</p>	<p>1 – O que é a Primavera?</p> <p><u>é uma estação do ano.</u></p> <p>2 – Quantas estações tem o ano?</p> <p><u>tem quatro estações.</u></p> <p>2- Quantas estações estão referidas na narrativa?</p> <p><u>et Primavera, o Verão e o Outono.</u></p> <p>3 – Qual a estação que falta no texto?</p> <p><u>é o Inverno.</u></p>



Ficha de trabalho - Estudo do Meio

Nome : Francisco

Data : 16/06/09





Imagem	Exploração
 <p>“ O velhinho e a velhinha vivem juntos numa casinha...”</p>	<p>1- À descoberta das inter-relações entre espaços – A Casa</p> <p>a) Que tipo de casa está representada na gravura? Casa de campo <input checked="" type="checkbox"/> apartamento <input type="checkbox"/> moradia na cidade <input type="checkbox"/></p> <p>b) Para ti a casa dos velhinhos era pequena ou grande? <u>A casa para mim a casa é pequena.</u></p>
 <p>“... o velhinho sentou-se na cama, cheirou o ar fresco do Outono...”</p>	<p>1 - Em que espaço da casa estava a cama do velhinho? <u>A cama está no quarto do velhinho.</u></p> <p>2 - Que outros espaços há numa casa? <u>Uma casa do banho, cozinha e sala.</u></p> <p>3- Quais as funções desses espaços? <u>Sala do banho fazer necessidades, cozinha cozinhar, sala sala de estar.</u></p>
 <p>“ Naquela noite choveu – ping, ping! O velhinho e a velhinha adormeceram a sorrir...”</p>	<p>À descoberta do ambiente natural – Seres vivos do seu ambiente</p> <p>1 - O que representa a imagem? <u>Uma noite chuvosa</u></p> <p>2 - Por que é que os velhinhos adormeceram a sorrir? <u>Porque a chuva rega as plantas.</u></p> <p>3- As plantas e os animais da quinta são seres vivos. O que são seres vivos? <u>e os que nascem, crescem, alimentam-se e morrem.</u></p> <p>4- O que é que precisam as plantas para crescerem? <u>A água, o sol e o calor.</u></p>
 <p>“Numa bela manhã de Primavera o velhinho e a velhinha semearam os legumes.”</p>	<p>1 - O que é a Primavera? <u>é uma estação do ano.</u></p> <p>2 - Quantas estações tem o ano? <u>Há 4 estações.</u></p> <p>2- Quantas estações estão referidas na narrativa? <u>Primavera, Verão e Outono.</u></p> <p>3 - Qual a estação que falta no texto? <u>o Inverno.</u></p>



Ficha de trabalho - Estudo do Meio

Nome : Francisco Romacho

Data : 16/06/09





Imagem	Exploração
 <p>“ O velhinho e a velhinha vivem juntos numa casinha...”</p>	<p>1- À descoberta das inter-relações entre espaços – A Casa</p> <p>a) Que tipo de casa está representada na gravura? Casa de campo <input checked="" type="checkbox"/> apartamento <input type="checkbox"/> moradia na cidade <input type="checkbox"/></p> <p>b) Para ti a casa dos velhinhos era pequena ou grande? <u>Para mim era pequena.</u></p>
 <p>“... o velhinho sentou-se na cama, cheirou o ar fresco do Outono...”</p>	<p>1 - Em que espaço da casa estava a cama do velhinho? <u>et cama do velhinho estava no quarto.</u></p> <p>2 - Que outros espaços há numa casa? <u>et uma cozinha, sala e uma casa de banho.</u></p> <p>3- Quais as funções desses espaços? <u>O quarto para dormir, a sala é para estar, casa de banho é para lavar as mãos.</u></p>
 <p>“ Naquela noite choveu – ping, ping! O velhinho e a velhinha adormeceram a sorrir...”</p>	<p>À descoberta do ambiente natural – Seres vivos do seu ambiente</p> <p>1 - O que representa a imagem? <u>et horta</u></p> <p>2 - Por que é que os velhinhos adormeceram a sorrir? <u>Porque eles semearam sementes e depois choveu.</u></p> <p>3- As plantas e os animais da quinta são seres vivos. O que são seres vivos? <u>que nasce, alimenta-se morre.</u></p> <p>4- O que é que precisam as plantas para crescerem? <u>et plantas para crescerem precisam de luz, água e sol.</u></p>
 <p>“Numa bela manhã de Primavera o velhinho e a velhinha semearam os legumes.”</p>	<p>1 - O que é a Primavera? <u>et Primavera é uma estação do ano.</u></p> <p>2 - Quantas estações tem o ano? <u>Tem quatro estações</u></p> <p>2- Quantas estações estão referidas na narrativa? <u>3: Primavera, Verão, Outono.</u></p> <p>3 - Qual a estação que falta no texto? <u>O Inverno</u></p>



Ficha de trabalho - Estudo do Meio

Nome : Helena

Data : 16/06/2009





Imagem	Exploração
 <p>“ O velhinho e a velhinha viviam juntos numa casinha...”</p>	<p>1- À descoberta das inter-relações entre espaços – A Casa</p> <p>a) Que tipo de casa está representada na gravura?</p> <p>Casa de campo <input checked="" type="checkbox"/> apartamento <input type="checkbox"/> moradia na cidade <input type="checkbox"/></p> <p>b) Para ti a casa dos velhinhos era pequena ou grande?</p> <p><u>A casa dos velhinhos é pequena.</u></p>
 <p>“... o velhinho sentou-se na cama, cheirou o ar fresco do Outono...”</p>	<p>1 - Em que espaço da casa estava a cama do velhinho?</p> <p><u>A cama dos velhinhos estava de quarto.</u></p> <p>2 - Que outros espaços há numa casa?</p> <p><u>A casa de banho, cozinha, sala e quarto.</u></p> <p>3- Quais as funções desses espaços?</p> <p><u>A cozinha serve para cozinhar, a sala serve para ver televisão.</u></p>
 <p>“ Naquela noite choveu – ping, ping! O velhinho e a velhinha adormeceram a sorrir...”</p>	<p>À descoberta do ambiente natural – Seres vivos do seu ambiente</p> <p>1 – O que representa a imagem?</p> <p><u>A chuva a cair.</u></p> <p>2 – Por que é que os velhinhos adormeceram a sorrir?</p> <p><u>Porque a chuva estava a regar as plantas.</u></p> <p>3- As plantas e os animais da quinta são seres vivos. O que são seres vivos?</p> <p><u>São seres, que nascem, alimentam-se, crescem e morrem.</u></p> <p>4- O que é que precisam as plantas para crescerem?</p> <p><u>Água, luz e calor.</u></p>
 <p>“Numa bela manhã de Primavera o velhinho e a velhinha semearam os legumes.”</p>	<p>1 – O que é a Primavera?</p> <p><u>A Primavera é uma estação do ano.</u></p> <p>2 – Quantas estações tem o ano?</p> <p><u>O ano tem quatro estações.</u></p> <p>2- Quantas estações estão referidas na narrativa?</p> <p><u>Foi 3: Primavera, Verão e Outono.</u></p> <p>3 – Qual a estação que falta no texto?</p> <p><u>A estação que falta no texto é o Inverno.</u></p>



Ficha de trabalho - Estudo do Meio

Nome : Yoana

Data : 16/6/09





Imagem	Exploração
 <p>“ O velhinho e a velhinha viviam juntos numa casinha...”</p>	<p>1- À descoberta das inter-relações entre espaços – A Casa</p> <p>a) Que tipo de casa está representada na gravura?</p> <p>Casa de campo <input checked="" type="checkbox"/> apartamento <input type="checkbox"/> moradia na cidade <input type="checkbox"/></p> <p>b) Para ti a casa dos velhinhos era pequena ou grande?</p> <p><u>Pequena</u></p>
 <p>“... o velhinho sentou-se na cama, cheirou o ar fresco do Outono...”</p>	<p>1 - Em que espaço da casa estava a cama do velhinho?</p> <p><u>No quarto</u></p> <p>2 - Que outros espaços há numa casa?</p> <p><u>Casa de banho, cozinha, sala, quartos</u></p> <p>3- Quais as funções desses espaços?</p> <p><u>Cozinha é para cozinhar, a casa-de-banho é para fazermos as necessidades e a sala de estar para estar</u></p>
 <p>“ Naquela noite choveu – ping, ping! O velhinho e a velhinha adormeceram a sorrir...”</p>	<p>A descoberta do ambiente natural – Seres vivos do seu ambiente</p> <p>1 – O que representa a imagem?</p> <p><u>A chuva a cair</u></p> <p>2 – Por que é que os velhinhos adormeceram a sorrir?</p> <p><u>Porque a chuva melhora as plantas</u></p> <p>3– As plantas e os animais da quinta são seres vivos. O que são seres vivos?</p> <p><u>não aqueles que nascem e morrem alimentam-se</u></p> <p>4– O que é que precisam as plantas para crescerem?</p> <p><u>De água, calor e sol.</u></p>
 <p>“Numa bela manhã de Primavera o velhinho e a velhinha semearam os legumes.”</p>	<p>1 – O que é a Primavera?</p> <p><u>É uma estação do ano</u></p> <p>2 – Quantas estações tem o ano?</p> <p><u>Quatro estações</u></p> <p>2– Quantas estações estão referidas na narrativa?</p> <p><u>Primavera, Verão e Outono.</u></p> <p>3 – Qual a estação que falta no texto?</p> <p><u>O Inverno</u></p>



Ficha de trabalho - Estudo do Meio

Nome : João

Data : 16 de 2009





Imagem	Exploração
 <p>“ O velhinho e a velhinha viviam juntos numa casinha...”</p>	<p>1- À descoberta das inter-relações entre espaços – A Casa</p> <p>a) Que tipo de casa está representada na gravura?</p> <p>Casa de campo <input checked="" type="checkbox"/> apartamento <input type="checkbox"/> moradia na cidade <input type="checkbox"/></p> <p>b) Para ti a casa dos velhinhos era pequena ou grande?</p> <p><u>A casa do velhinho para mim era grande.</u></p>
 <p>“... o velhinho sentou-se na cama, cheirou o ar fresco do Outono...”</p>	<p>1 - Em que espaço da casa estava a cama do velhinho?</p> <p><u>A cama do velhinho estava no quarto.</u></p> <p>2 - Que outros espaços há numa casa?</p> <p><u>Numa casa havia cozinha, casa de banho e quartos e uma sala.</u></p> <p>3- Quais as funções desses espaços?</p> <p><u>A cozinha é para fazer comer, a casa de banho é para fazer necessidades e a sala é para ver televisão.</u></p>
 <p>“ Naquela noite choveu – ping, ping! O velhinho e a velhinha adormeceram a sorrir...”</p>	<p>À descoberta do ambiente natural – Seres vivos do seu ambiente</p> <p>1 – O que representa a imagem?</p> <p><u>Representa a chuva a cair.</u></p> <p>2 – Por que é que os velhinhos adormeceram a sorrir?</p> <p><u>Sorque a chuva estava a regar as plantas.</u></p> <p>3– As plantas e os animais da quinta são seres vivos. O que são seres vivos?</p> <p><u>São seres que nascem, crescem, alimentam-se e morrem.</u></p> <p>4– O que é que precisam as plantas para crescerem?</p> <p><u>precisam de água, luz e calor.</u></p>
 <p>“Numa bela manhã de Primavera o velhinho e a velhinha semearam os legumes.”</p>	<p>1 – O que é a Primavera?</p> <p><u>É uma estação do ano.</u></p> <p>2 – Quantas estações tem o ano?</p> <p><u>Tem 4 estações.</u></p> <p>2– Quantas estações estão referidas na narrativa?</p> <p><u>Foi 3: a Primavera, o Verão e o Outono.</u></p> <p>3 – Qual a estação que falta no texto?</p> <p><u>Falta o Inverno.</u></p>



Ficha de trabalho - Estudo do Meio

Nome : Yori

Data : 16/04/2009





Imagem	Exploração
 <p>“ O velhinho e a velhinha vivem juntos numa casinha...”</p>	<p>1- À descoberta das inter-relações entre espaços – A Casa</p> <p>a) Que tipo de casa está representada na gravura?</p> <p>Casa de campo <input checked="" type="checkbox"/> apartamento <input type="checkbox"/> moradia na cidade <input type="checkbox"/></p> <p>b) Para ti a casa dos velhinhos era pequena ou grande?</p> <p><u>era pequenina</u></p>
 <p>“... o velhinho sentou-se na cama, cheirou o ar fresco do Outono...”</p>	<p>1 - Em que espaço da casa estava a cama do velhinho?</p> <p><u>No quarto.</u></p> <p>2 - Que outros espaços há numa casa?</p> <p><u>uma cozinha, quarto, sala, casa-de-banho;</u></p> <p>3- Quais as funções desses espaços?</p> <p><u>Da cozinha para comer, a casa-de-banho para fazer necessidades, sala para descansar.</u></p>
 <p>“ Naquela noite choveu – ping, ping! O velhinho e a velhinha adormeceram a sorrir...”</p>	<p>À descoberta do ambiente natural – Seres vivos do seu ambiente</p> <p>1 – O que representa a imagem?</p> <p><u>Representa a chuva</u></p> <p>2 – Por que é que os velhinhos adormeceram a sorrir?</p> <p><u>porque a chuva rega as plantas.</u></p> <p>3– As plantas e os animais da quinta são seres vivos. O que são seres vivos?</p> <p><u>são aquelas que nascem, alimentam-se e morrem</u></p> <p>4– O que é que precisam as plantas para crescerem?</p> <p><u>água, luz, calor e terra boa.</u></p>
 <p>“Numa bela manhã de Primavera o velhinho e a velhinha semearam os legumes.”</p>	<p>1 – O que é a Primavera?</p> <p><u>é uma estação do ano</u></p> <p>2 – Quantas estações tem o ano?</p> <p><u>tem 4 estações: Primavera, Verão, Outono e Inverno</u></p> <p>2– Quantas estações estão referidas na narrativa?</p> <p><u>3 estações: Primavera, Verão, Outono</u></p> <p>3 – Qual a estação que falta no texto?</p> <p><u>O Inverno</u></p>



Ficha de trabalho - Estudo do Meio

Nome : Luís

Data : 16/06/2009



Imagem	Exploração
 <p>“ O velhinho e a velhinha viviam juntos numa casinha...”</p>	<p>1- À descoberta das inter-relações entre espaços – A Casa</p> <p>a) Que tipo de casa está representada na gravura?</p> <p>Casa de campo <input checked="" type="checkbox"/> apartamento <input type="checkbox"/> moradia na cidade <input type="checkbox"/></p> <p>b) Para ti a casa dos velhinhos era pequena ou grande?</p> <p><u>Para mim a casinha é grande.</u></p>
 <p>“... o velhinho sentou-se na cama, cheirou o ar fresco do Outono...”</p>	<p>1 - Em que espaço da casa estava a cama do velhinho?</p> <p><u>Estava no quarto.</u></p> <p>2 - Que outros espaços há numa casa?</p> <p><u>Há cozinha, casa de banho, sala de estar, sala de jantar.</u></p> <p>3- Quais as funções desses espaços?</p> <p><u>A cozinha para cozinhar, a casa de banho para fazer necessidades, sala de estar para ver alguma coisa, sala de jantar para jantar.</u></p>
 <p>“ Naquela noite choveu – ping, ping! O velhinho e a velhinha adormeceram a sorrir...”</p>	<p>A descoberta do ambiente natural – Seres vivos do seu ambiente</p> <p>1 – O que representa a imagem?</p> <p><u>A imagem representa uma noite chuvosa.</u></p> <p>2 – Por que é que os velhinhos adormeceram a sorrir?</p> <p><u>Os velhinhos adormeceram a sorrir porque a chuva ia ajudar as plantas.</u></p> <p>3- As plantas e os animais da quinta são seres vivos. O que são seres vivos?</p> <p><u>Os seres vivos são todos os seres que nascem, crescem, alimentam-se, reproduzem-se e morrem.</u></p> <p>4- O que é que precisam as plantas para crescerem?</p> <p><u>As plantas precisam de água, luz e calor.</u></p>
 <p>“Numa bela manhã de Primavera o velhinho e a velhinha semearam os legumes.”</p>	<p>1 – O que é a Primavera?</p> <p><u>É uma estação do ano.</u></p> <p>2 – Quantas estações tem o ano?</p> <p><u>O ano tem 4 estações.</u></p> <p>2- Quantas estações estão referidas na narrativa?</p> <p><u>Na narrativa estão referidas 3 estações são Primavera, Verão e Outono.</u></p> <p>3- Qual a estação que falta no texto?</p> <p><u>A estação que falta no texto é o Inverno.</u></p>



Ficha de trabalho - Estudo do Meio

Nome : Manuel

Data : 16/06/2009





Imagem	Exploração
 <p>“ O velhinho e a velhinha viviam juntos numa casinha...”</p>	<p>1- À descoberta das inter-relações entre espaços – A Casa</p> <p>a) Que tipo de casa está representada na gravura?</p> <p>Casa de campo <input checked="" type="checkbox"/> apartamento <input type="checkbox"/> moradia na cidade <input type="checkbox"/></p> <p>b) Para ti a casa dos velhinhos era pequena ou grande?</p> <p>Para mim era grande.</p>
 <p>“... o velhinho sentou-se na cama, cheirou o ar fresco do Outono...”</p>	<p>1 - Em que espaço da casa estava a cama do velhinho?</p> <p>A cama do velhinho estava no quarto.</p> <p>2 - Que outros espaços há numa casa?</p> <p>Há casa de banho, cozinha e sala.</p> <p>3- Quais as funções desses espaços?</p> <p>A cozinha é para cozinhar, a sala é para ver televisão e a casa de banho para fazer necessidades.</p>
 <p>“ Naquela noite choveu – ping, ping! O velhinho e a velhinha adormeceram a sorrir ...”</p>	<p>A descoberta do ambiente natural – Seres vivos do seu ambiente</p> <p>1 – O que representa a imagem?</p> <p>Representa a chuva a cair.</p> <p>2 – Por que é que os velhinhos adormeceram a sorrir?</p> <p>Porque a chuva fazia crescer os legumes.</p> <p>3- As plantas e os animais da quinta são seres vivos. O que são seres vivos?</p> <p>São seres que nascem, alimentam-se e movem.</p> <p>4- O que é que precisam as plantas para crescerem?</p> <p>Precisam de água, luz e calor.</p>
 <p>“Numa bela manhã de Primavera o velhinho e a velhinha semearam os legumes.”</p>	<p>1 – O que é a Primavera?</p> <p>É uma estação de ano.</p> <p>2 – Quantas estações tem o ano?</p> <p>O ano tem 4 estações.</p> <p>2- Quantas estações estão referidas na narrativa?</p> <p>Estavam 3. São: Primavera, Verão e Outono.</p> <p>3 – Qual a estação que falta no texto?</p> <p>É o Inverno.</p>



Ficha de trabalho - Estudo do Meio

Nome : Manuel Maria

Data : 16/06/09





Imagem	Exploração
 <p>“ O velhinho e a velhinha viviam juntos numa casinha...”</p>	<p>1- À descoberta das inter-relações entre espaços – A Casa</p> <p>a) Que tipo de casa está representada na gravura?</p> <p>Casa de campo <input checked="" type="checkbox"/> apartamento <input type="checkbox"/> moradia na cidade <input type="checkbox"/></p> <p>b) Para ti a casa dos velhinhos era pequena ou grande?</p> <p><u>A casa era grande.</u></p>
 <p>“... o velhinho sentou-se na cama, cheirou o ar fresco do Outono...”</p>	<p>1 - Em que espaço da casa estava a cama do velhinho?</p> <p><u>A cama estava no quarto.</u></p> <p>2 - Que outros espaços há numa casa?</p> <p><u>Na casa há, a cozinha ; W.C e sala.</u></p> <p>3- Quais as funções desses espaços?</p> <p><u>A cozinha para fazer a comida, a W.C. para tomar banho e a sala para receber as pessoas.</u></p>
 <p>“ Naquela noite choveu – ping, ping! O velhinho e a velhinha adormeceram a sorrir...”</p>	<p>À descoberta do ambiente natural – Seres vivos do seu ambiente</p> <p>1 – O que representa a imagem?</p> <p><u>A chuva a cair.</u></p> <p>2 – Por que é que os velhinhos adormeceram a sorrir?</p> <p><u>Porque estava a regar as plantas.</u></p> <p>3– As plantas e os animais da quinta são seres vivos. O que são seres vivos?</p> <p><u>São seres que nascem, crescem, alimentam-se e morrem.</u></p> <p>4– O que é que precisam as plantas para crescerem?</p> <p><u>Água, luz e calor.</u></p>
 <p>“Numa bela manhã de Primavera o velhinho e a velhinha semearam os legumes.”</p>	<p>1 – O que é a Primavera?</p> <p><u>É uma estação do ano.</u></p> <p>2 – Quantas estações tem o ano?</p> <p><u>O ano tem 4 estações.</u></p> <p>2– Quantas estações estão referidas na narrativa?</p> <p><u>3- Primavera, o Verão e o Outono.</u></p> <p>3 – Qual a estação que falta no texto?</p> <p><u>É o Inverno.</u></p>



Ficha de trabalho - Estudo do Meio

Nome : Marita

Data : 16/06/2009





Imagem	Exploração
 <p>“ O velhinho e a velhinha viviam juntos numa casinha...”</p>	<p>1- À descoberta das inter-relações entre espaços – A Casa</p> <p>a) Que tipo de casa está representada na gravura?</p> <p>Casa de campo <input checked="" type="checkbox"/> apartamento <input type="checkbox"/> moradia na cidade <input type="checkbox"/></p> <p>b) Para ti a casa dos velhinhos era pequena ou grande?</p> <p><u>A casa é pequena.</u></p>
 <p>“... o velhinho sentou-se na cama, cheirou o ar fresco do Outono...”</p>	<p>1 - Em que espaço da casa estava a cama do velhinho?</p> <p><u>No quarto.</u></p> <p>2 - Que outros espaços há numa casa?</p> <p><u>A cozinha, sala, casa de banho e uma sala de brincar e uma despensa.</u></p> <p>3- Quais as funções desses espaços?</p> <p><u>Para comer, brincar descansar, fazer as necessidades e arrumações.</u></p>
 <p>“ Naquela noite choveu – ping, ping! O velhinho e a velhinha adormeceram a sorrir ...”</p>	<p>À descoberta do ambiente natural – Seres vivos do seu ambiente</p> <p>1 – O que representa a imagem?</p> <p><u>A noite de chuva.</u></p> <p>2 – Por que é que os velhinhos adormeceram a sorrir?</p> <p><u>Porque estava a regar as plantas.</u></p> <p>3- As plantas e os animais da quinta são seres vivos. O que são seres vivos? <u>São seres que nascem, alimentam-se e morrem.</u></p> <p>4- O que é que precisam as plantas para crescerem?</p> <p><u>A chuva a luz e calor.</u></p>
 <p>“Numa bela manhã de Primavera o velhinho e a velhinha semearam os legumes.”</p>	<p>1 – O que é a Primavera?</p> <p><u>A Primavera é uma estação de ano.</u></p> <p>2 – Quantas estações tem o ano?</p> <p><u>São quatro.</u></p> <p>2- Quantas estações estão referidas na narrativa?</p> <p><u>São a Primavera, Verão e Outono.</u></p> <p>3 – Qual a estação que falta no texto?</p> <p><u>É o Inverno.</u></p>



Ficha de trabalho - Estudo do Meio

Nome : Maria

Data : 16/06/2009





Imagem	Exploração
 <p>“ O velhinho e a velhinha viviam juntos numa casinha...”</p>	<p>1- À descoberta das inter-relações entre espaços – A Casa</p> <p>a) Que tipo de casa está representada na gravura?</p> <p>Casa de campo <input checked="" type="checkbox"/> apartamento <input type="checkbox"/> moradia na cidade <input type="checkbox"/></p> <p>b) Para ti a casa dos velhinhos era pequena ou grande?</p> <p><u>A casa do velhinho e da velhinha era pequena</u></p>
 <p>“... o velhinho sentou-se na cama, cheirou o ar fresco do Outono...”</p>	<p>1 - Em que espaço da casa estava a cama do velhinho?</p> <p><u>A cama do velhinho estava no quarto</u></p> <p>2 - Que outros espaços há numa casa?</p> <p><u>cozinha, sala, despensa, casa de banho e lavanderia</u></p> <p>3- Quais as funções desses espaços?</p> <p><u>A cozinha faz comida, a sala serve para descansar e a W.C. serve para fazer as necessidades.</u></p>
 <p>“ Naquela noite choveu – ping, ping! O velhinho e a velhinha adormeceram a sorrir...”</p>	<p>À descoberta do ambiente natural – Seres vivos do seu ambiente</p> <p>1 – O que representa a imagem?</p> <p><u>uma noite chuvosa.</u></p> <p>2 – Por que é que os velhinhos adormeceram a sorrir?</p> <p><u>Porque a chuva estava a regar as plantas.</u></p> <p>3- As plantas e os animais da quinta são seres vivos. O que são seres vivos?</p> <p><u>são seres que nascem, alimentam-se, crescem, reproduzem-se e morrem</u></p> <p>4- O que é que precisam as plantas para crescerem?</p> <p><u>água e calor.</u></p>
 <p>“Numa bela manhã de Primavera o velhinho e a velhinha semearam os legumes.”</p>	<p>1 – O que é a Primavera?</p> <p><u>é uma estação do ano</u></p> <p>2 – Quantas estações tem o ano?</p> <p><u>tem 4 estações.</u></p> <p>2- Quantas estações estão referidas na narrativa?</p> <p><u>3: a primavera, o verão e o outono</u></p> <p>3 – Qual a estação que falta no texto?</p> <p><u>o Inverno</u></p>



Ficha de trabalho - Estudo do Meio

Nome : Dedro

Data : 16 de 2009





Imagem	Exploração
 <p>“ O velhinho e a velhinha viviam juntos numa casinha...”</p>	<p>1- À descoberta das inter-relações entre espaços – A Casa</p> <p>a) Que tipo de casa está representada na gravura?</p> <p>Casa de campo <input checked="" type="checkbox"/> apartamento <input type="checkbox"/> moradia na cidade <input type="checkbox"/></p> <p>b) Para ti a casa dos velhinhos era pequena ou grande?</p> <p>A casa dos velhinhos é pequena</p>
 <p>“... o velhinho sentou-se na cama, cheirou o ar fresco do Outono...”</p>	<p>1 - Em que espaço da casa estava a cama do velhinho?</p> <p>A cama do velhinho está no quarto</p> <p>2 - Que outros espaços há numa casa?</p> <p>Há uma cadeira de banho, cozinha e sala</p> <p>3- Quais as funções desses espaços?</p> <p>Os quartos são para a comida, a casa de banho para a higiene e sala para descansar.</p>
 <p>“ Naquela noite choveu – ping, ping! O velhinho e a velhinha adormeceram a sorrir...”</p>	<p>A descoberta do ambiente natural – Seres vivos do seu ambiente</p> <p>1 – O que representa a imagem?</p> <p>A chuva a cair.</p> <p>2 – Por que é que os velhinhos adormeceram a sorrir?</p> <p>Os velhinhos estavam a sorrir porque a chuva está a regar as plantas.</p> <p>3- As plantas e os animais da quinta são seres vivos. O que são seres vivos?</p> <p>nasceram, alimentam-se e reproduzem-se e morrem</p> <p>4- O que é que precisam as plantas para crescerem?</p> <p>As plantas precisam de terra boa água, calor e sol.</p>
 <p>“Numa bela manhã de Primavera o velhinho e a velhinha semearam os legumes.”</p>	<p>1 – O que é a Primavera?</p> <p>A Primavera é uma estação do ano</p> <p>2 – Quantas estações tem o ano?</p> <p>O ano tem quatro estações</p> <p>2- Quantas estações estão referidas na narrativa?</p> <p>A Primavera, Verão e outono</p> <p>3 – Qual a estação que falta no texto?</p> <p>A estação que falta no texto é o Inverno.</p>



Ficha de trabalho - Estudo do Meio

Nome : Tatiana

Data : 16/06/2009





Imagem	Exploração
 <p>“ O velhinho e a velhinha viviam juntos numa casinha...”</p>	<p>1- À descoberta das inter-relações entre espaços – A Casa</p> <p>a) Que tipo de casa está representada na gravura?</p> <p>Casa de campo <input checked="" type="checkbox"/> apartamento <input type="checkbox"/> moradia na cidade <input type="checkbox"/></p> <p>b) Para ti a casa dos velhinhos era pequena ou grande?</p> <p><u>A casa dos velhinhos era pequena.</u></p>
 <p>“... o velhinho sentou-se na cama, cheirou o ar fresco do Outono...”</p>	<p>1 - Em que espaço da casa estava a cama do velhinho?</p> <p><u>A cama do velhinho estava no quarto.</u></p> <p>2 - Que outros espaços há numa casa?</p> <p><u>cozinha, salas e casa-de-banho.</u></p> <p>3- Quais as funções desses espaços?</p> <p><u>Na cozinha janta-se no fogão cozinhase.</u></p>
 <p>“ Naquela noite choveu – ping, ping! O velhinho e a velhinha adormeceram a sorrir...”</p>	<p>À descoberta do ambiente natural – Seres vivos do seu ambiente</p> <p>1 – O que representa a imagem?</p> <p><u>A chuva a cair.</u></p> <p>2 – Por que é que os velhinhos adormeceram a sorrir?</p> <p><u>Porque a chuva estava a regar as plantas.</u></p> <p>3- As plantas e os animais da quinta são seres vivos. O que são seres vivos?</p> <p><u>É o ser que alimenta, reproduzem-se, nascem e morrem.</u></p> <p>4- O que é que precisam as plantas para crescerem?</p> <p><u>Chuva, luz e calor.</u></p>
 <p>“Numa bela manhã de Primavera o velhinho e a velhinha semearam os legumes.”</p>	<p>1 – O que é a Primavera?</p> <p><u>É uma estação do ano.</u></p> <p>2 – Quantas estações tem o ano?</p> <p><u>Tem 4 estações.</u></p> <p>2- Quantas estações estão referidas na narrativa?</p> <p><u>A Primavera, o Verão e o Outono.</u></p> <p>3 – Qual a estação que falta no texto?</p> <p><u>É o Inverno.</u></p>



Ficha de trabalho - Estudo do Meio



Nome : Diogo

Data : 16/06/2009

Imagem	Exploração
 <p>“ O velhinho e a velhinha viviam juntos numa casinha...”</p>	<p>1- À descoberta das inter-relações entre espaços – A Casa</p> <p>a) Que tipo de casa está representada na gravura?</p> <p>Casa de campo <input checked="" type="checkbox"/> apartamento <input type="checkbox"/> moradia na cidade <input type="checkbox"/></p> <p>b) Para ti a casa dos velhinhos era pequena ou grande?</p> <p><u>Para mim a casa é pequena</u></p>
 <p>“... o velhinho sentou-se na cama, cheirou o ar fresco do Outono...”</p>	<p>1 - Em que espaço da casa estava a cama do velhinho?</p> <p><u>Estava no quarto.</u></p> <p>2 - Que outros espaços há numa casa?</p> <p><u>Há a cozinha, há casa de banho, a sala, o escritório e a despensa.</u></p> <p>3- Quais as funções desses espaços?</p> <p><u>A cozinha é para cozinhar, a sala é para nós estarmos descontraídos, a despensa é para guardar a comida, o escritório é para trabalhar a casa de banho é para fazer algumas necessidades.</u></p>
 <p>“ Naquela noite choveu – ping, ping! O velhinho e a velhinha adormeceram a sorrir...”</p>	<p>À descoberta do ambiente natural – Seres vivos do seu ambiente</p> <p>1 – O que representa a imagem?</p> <p><u>Representa a chuva a cair.</u></p> <p>2 – Por que é que os velhinhos adormeceram a sorrir?</p> <p><u>Por que a chuva estava a regar as plantas.</u></p> <p>3- As plantas e os animais da quinta são seres vivos. O que são seres vivos?</p> <p><u>É o ser que nasce, cresce, alimenta-se, reproduz-se, envelhece e morre.</u></p> <p>4- O que é que precisam as plantas para crescerem?</p> <p><u>Precisam de água, luz e calor.</u></p>
 <p>“Numa bela manhã de Primavera o velhinho e a velhinha semearam os legumes.”</p>	<p>1 – O que é a Primavera?</p> <p><u>É uma estação do ano.</u></p> <p>2 – Quantas estações tem o ano?</p> <p><u>O ano tem 4 estações.</u></p> <p>2- Quantas estações estão referidas na narrativa?</p> <p><u>3: Primavera, Verão e Outono.</u></p> <p>3 – Qual a estação que falta no texto?</p> <p><u>O Inverno.</u></p>

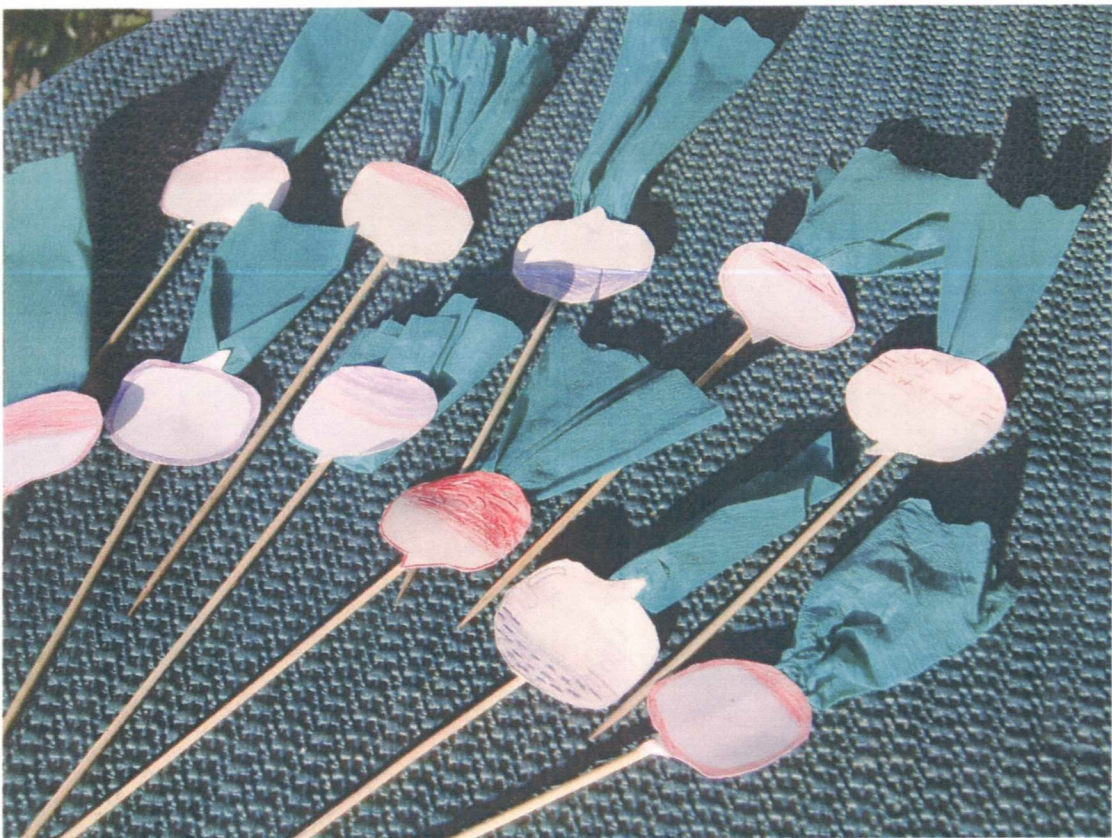
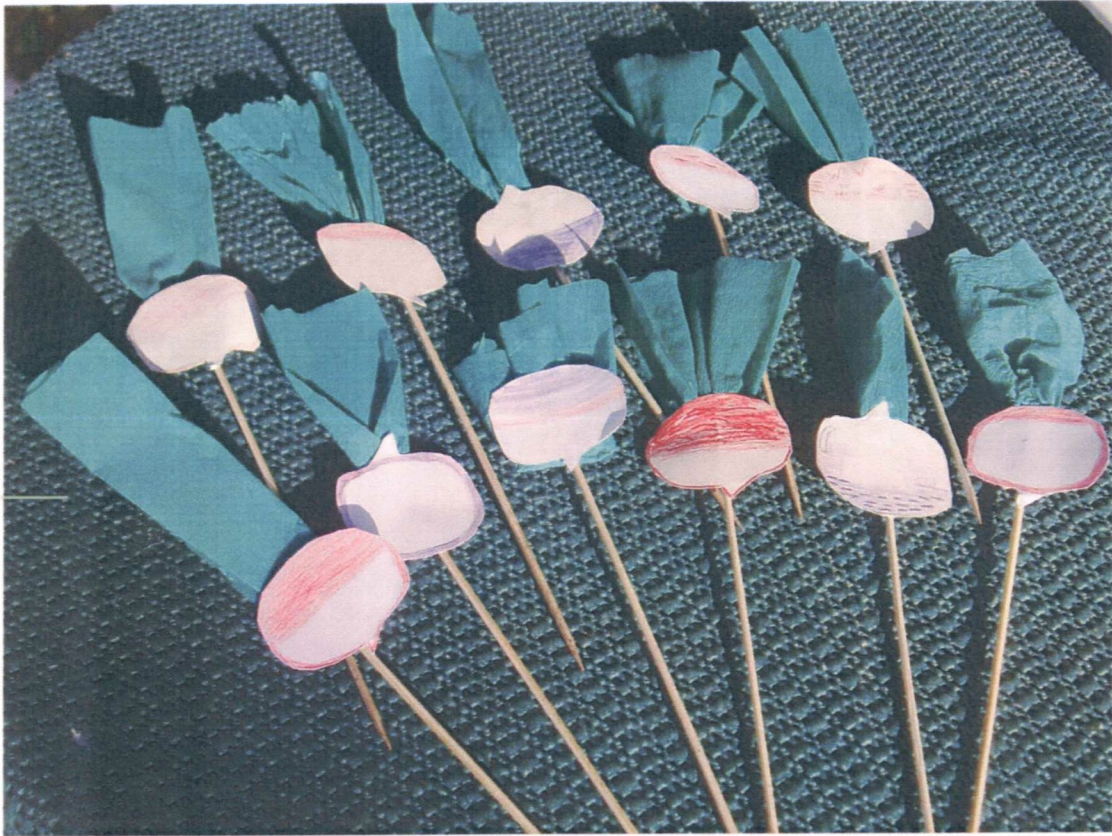
ANEXO IV

Trabalho de Recorte e Colagem









ANEXO V

Desenho do Nabo pintado



O nabo gigante

Alexis Tolstoi e Niamh Sharkey

Pinta o seguinte desenho.



Nome : _____

Data : ____ / ____ / ____



O nabo gigante

Alexis Tolstoi e Niamh Sharkey

Pinta o seguinte desenho.



Nome : Alonso

Data : 18/06/2009



O nabo gigante

Alexis Tolstoi e Niamh Sharkey

Pinta o seguinte desenho.



Nome : Ama


Data : 18/6/2009



O nabo gigante

Alexis Tolstoi e Niamh Sharkey

Pinta o seguinte desenho.



Nome : Bruna

Data : 18 / 06 / 2009



O nabo gigante

Alexis Tolstoi e Niamh Sharkey

Pinta o seguinte desenho.



Nome : Bruma Maria

Data : 18/06/2009



O nabo gigante

Alexis Tolstoi e Niamh Sharkey

Pinta o seguinte desenho.



Nome : Carlota

Data : 18/06/2009



O nabo gigante

Alexis Tolstoi e Niamh Sharkey

Pinta o seguinte desenho.



Nome: Diogo

Data: 18/6/2009



O nabo gigante

Alexis Tolstoi e Niamh Sharkey

Pinta o seguinte desenho.



Nome : Dulce

Data : 12/06/2009



O nabo gigante

Alexis Tolstoi e Niamh Sharkey

Pinta o seguinte desenho.



Nome : Francisco

Data : 18/06/2009



O nabo gigante

Alexis Tolstoi e Niamh Sharkey

Pinta o seguinte desenho.



Nome : Francisco Bonacho Data : 18/06/2009



O nabo gigante

Alexis Tolstoi e Niamh Sharkey

Pinta o seguinte desenho.



Nome : Isbelma


Data : 18/06/2009



O nabo gigante

Alexis Tolstoi e Niamh Sharkey

Pinta o seguinte desenho.



Nome : joana

Data : 18/06/2009



O nabo gigante

Alexis Tolstoi e Niamh Sharkey

Pinta o seguinte desenho.



Nome : joão

Data : 18/06/2009



O nabo gigante

Alexis Tolstoi e Niamh Sharkey

Pinta o seguinte desenho.



Nome : Yara'

Data : 18/06/2009



O nabo gigante

Alexis Tolstoi e Niamh Sharkey

Pinta o seguinte desenho.



Nome : Luis

Data : 18/06/2009



O nabo gigante

Alexis Tolstoi e Niamh Sharkey

Pinta o seguinte desenho.



Nome : Manuel

Data : 18 / 06 / 2009



O nabo gigante

Alexis Tolstoi e Niamh Sharkey

Pinta o seguinte desenho.



Nome : Mamuel Maria

Data : 18 / 06 / 2009



O nabo gigante

Alexis Tolstoi e Niamh Sharkey

Pinta o seguinte desenho.



Nome : Maria

Data : 18/06/2009



O nabo gigante

Alexis Tolstoi e Niamh Sharkey

Pinta o seguinte desenho.



Nome : Marta

Data : 18/06/2009



O nabo gigante

Alexis Tolstoi e Niamh Sharkey

Pinta o seguinte desenho.



Nome : Pedro


Data : 18 / 06 / 2009



O nabo gigante

Alexis Tolstoi e Niamh Sharkey

Pinta o seguinte desenho.



Nome : Tatiana

Data : 18/06/2009



O nabo gigante

Alexis Tolstoi e Niamh Sharkey

Pinta o seguinte desenho.



Nome : Tiago

Data : 18/06/2006